







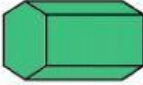








Körper

Aufgabe 1: Ordne jedem Gegenstand den passenden Körper zu. Ziehe dazu den Namen zum Bild.

 <input type="text"/>	 <input type="text"/>	 <input type="text"/>	 <input type="text"/>	 <input type="text"/>
 <input type="text"/>	 <input type="text"/>	 <input type="text"/>	 <input type="text"/>	 <input type="text"/>
 <input type="text"/>	 <input type="text"/>	 <input type="text"/>	 <input type="text"/>	 <input type="text"/>

- | | | | | |
|-------------------------------------|---------------------------------------|---------------------------------------|---------------------------------------|-------------------------------------|
| <input type="text" value="Würfel"/> | <input type="text" value="Pyramide"/> | <input type="text" value="Quader"/> | <input type="text" value="Prisma"/> | <input type="text" value="Kugel"/> |
| <input type="text" value="Kegel"/> | <input type="text" value="Kugel"/> | <input type="text" value="Pyramide"/> | <input type="text" value="Zylinder"/> | <input type="text" value="Quader"/> |
| <input type="text" value="Quader"/> | <input type="text" value="Zylinder"/> | <input type="text" value="Prisma"/> | <input type="text" value="Würfel"/> | <input type="text" value="Kegel"/> |

Aufgabe 2: Verbinde jede Aussage mit dem passenden Körper.

Meine Flächen sind alle gleich.	Kugel
Ich habe zwei Flächen, eine Kante und keine Ecke.	Würfel
Ich habe nur eine Fläche.	Zylinder
Jeweils 4 meiner 12 Kanten sind gleich lang.	Prisma
Zwei meiner drei Flächen sind Kreise.	Kegel
Ich habe 5 Ecken.	Quader
Wäre meine Standfläche ein Rechteck, wäre ich ein Quader.	Quadratische Pyramide