





اول ابتدائي



أكتب باقي الطرح:

	
$\square = 3 - 7$	$\square = 3 - 8$

أعبر عن الرسم بمعادلة طرح مناسبة:

	
$\square = \square - \square$	$\square = \square - \square$

أكتب العدد المناسب في □:

	
$4 = 2 - \square$	$5 = \square - 8$