

ČAS

1. Obkroži čas, ki ga kaže ura.



- a) 17:00
- b) 4:00
- c) 16:15



- a) 18:10
- b) 5:10
- c) 2:10






- a) 13:15
- b) 7:15
- c) 19:20



- a) 13:30
- b) 13:20
- c) 6:10

2. Označi, kateri čas je pravilno zapisan, če upoštevaš zapisan del dneva.

	popoldne	1:25 13:25
--	----------	---------------

	zjutraj	5:56 17:56
	zvečer	5:15 17:15
	popoldne	5:00 17:00

	ponoči	2:00 14:00
	zvečer	8:04 20:04
	zjutraj	7:13 19:13