

수학	1학년 2학기 수학 복습하기 〈시계 보기와 규칙 찾기〉	이름()
-----------	---	----------------------------

★ 동영상을 보면서 <규칙을 찾아 말해 볼까요> 차시를 복습해 봅시다.

<https://youtu.be/JWwvH441M8g>

★ 반복되는 규칙에 따라 빈 칸에 알맞은 그림을 드래그해서 넣어보세요.

1. ○ ○ ⊙ ⊙

○	⊙	○	⊙	○	⊙				
---	---	---	---	---	---	--	--	--	--









2. ♡ ♡ ♡ ♥

♡	♡	♥	♡	♡	♥				
---	---	---	---	---	---	--	--	--	--









3. → → ↑ ↓

→	↑	↓	→	↑	↓				
---	---	---	---	---	---	--	--	--	--








4.    

											
--	---	---	---	---	---	---	---	--	--	--	--










5.    

											
--	---	---	---	---	---	---	---	--	--	--	--

6.     

											
--	---	---	---	---	---	---	--	--	--	--	--

7.   

											
--	---	---	---	---	---	---	---	--	--	--	--

★ 동영상을 보면서 <규칙찾기> 수 배열에서 규칙을 찾아볼까요 차시를 복습해 봅시다.

<https://youtu.be/W-5-0ERDpn4>

★ 규칙에 따라 빈 칸에 알맞은 수를 쓰세요.


1.

1	3	5	1	3	5	1			
---	---	---	---	---	---	---	--	--	--


2.

1	4	9	7	5	1	4	9	7	5		
---	---	---	---	---	---	---	---	---	---	--	--

3.




4.



5.



6.



★ 새로운 규칙을 만들고, 내가 만든 규칙에 따라 수를 쓰세요.

(1)

내가 만든 규칙

--	--	--	--	--	--	--	--











(2)

내가 만든 규칙

--	--	--	--	--	--	--	--

★ 다음 시계의 시간을 읽어보고, 알맞은 색깔을 드래그해 놓아주세요. 어떤 그림이 될까요?

빨간색으로 칠할 것	1시, 2시, 3시, 4시, 5시, 6시, 7시, 8시, 11시, 12시
파란색으로 칠할 것	1시 30분, 2시 30분, 3시 30분, 5시 30분, 6시 30분, 7시 30분, 10시 30분

10:30		2:30	1:00	
	6:00		2:00	8:00
3:00	4:00	1:00	11:00	
	12:00	5:00		3:30
7:30			5:30	

★ 무슨 모양이 되었나요? _____

