









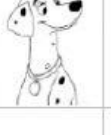















## La carica dei 101

<b>1</b>		<b>3</b>							<b>10</b>
									
			<b>24</b>						
									
									
			<b>54</b>						
									
<b>71</b>								<b>79</b>	
									
					<b>96</b>				

Scrivi i numeri da 1 a 100 nelle caselle.

Se incontri un cagnolino non preoccuparti, il numero è nascosto ma c'è !!

Quali numeri nascondono Peggy e Pongo? \_\_\_\_\_

Quanti cagnolini nascondono i numeri? \_\_\_\_\_

Quanti cagnolini mancano per completare la tabella? \_\_\_\_\_



$$100 + 1 =$$