
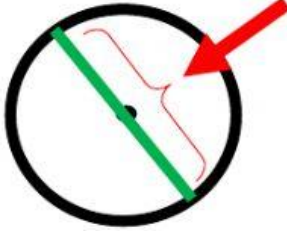


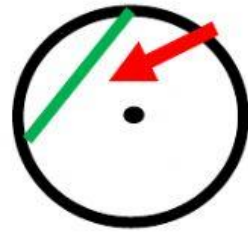
صلي العمود الأول بما يناسبه في العمود الثاني



الوتر




القطر



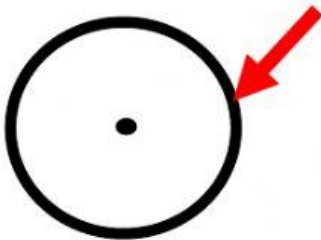
مركز الدائرة



مساحة الدائرة



محيط الدائرة



نصف القطر