

1. Пресметни:

$$154 \cdot 5 - 846 : 2 =$$

$$= \underline{\hspace{2cm}} =$$

$$= \underline{\hspace{2cm}}$$

$$273 \cdot 3 + 250 : 5 =$$

$$= \underline{\hspace{2cm}} =$$

$$= \underline{\hspace{2cm}}$$



Деление – започваме от стотиците!



2. Пресметни:

$$148 + \square = 639 : 3$$

$$148 + \square = \underline{\hspace{2cm}}$$

$$\square = \underline{\hspace{2cm}}$$

$$\square = \underline{\hspace{2cm}}$$

$$\square - 137 = 48 : 4 + 95$$

$$\square - \underline{\hspace{1cm}} = \underline{\hspace{2cm}}$$

$$\square = \underline{\hspace{2cm}}$$

$$\square = \underline{\hspace{2cm}}$$


3. Обиколката на равностранен триъгълник е 39 мм.

А) Намери страната му. .... = ..... (мм)



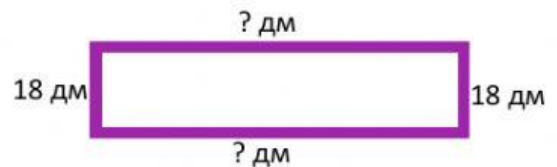
Б) Намери обиколката на квадрат със страна, равна на страната на триъгълника.

Об.  $\square =$  ..... = ..... (мм)



4. Обиколката на правоъгълник е 100 дм. Широчината му е 18 дм. Колко дм е дължината на правоъгълника?

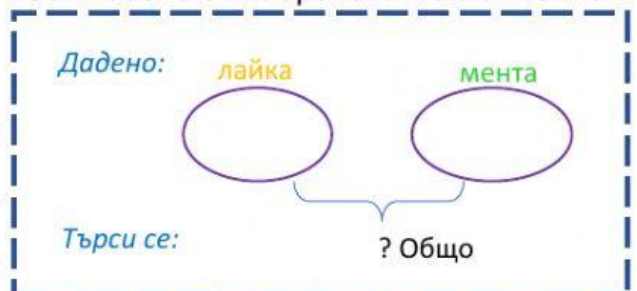
.....  
 .....  
 .....



Отговор: ..... (дм е дължината на правоъгълника)

5. Иво набрал 402 г лайка, които са 2 пъти повече от набраната мента. Колко грама билки е набрал Иво?

Решение:  
 .....  
 .....  
 .....



Отговор: ..... (кг общо билки е набрал Иво)

Р. Паскалева