

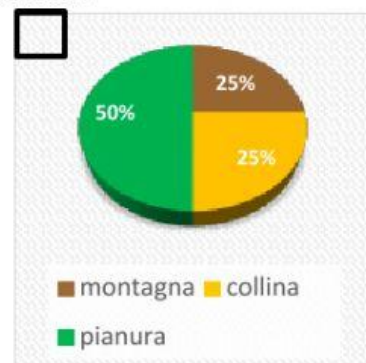
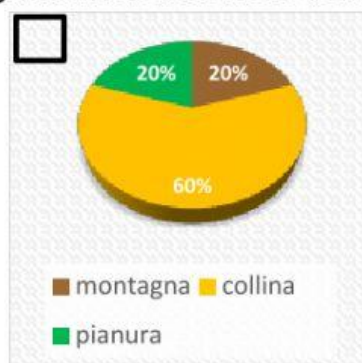
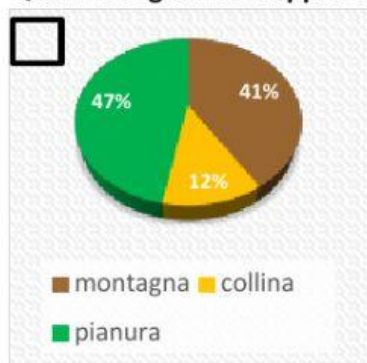
# LA LOMBARDIA - ESERCIZI

Guarda il video:

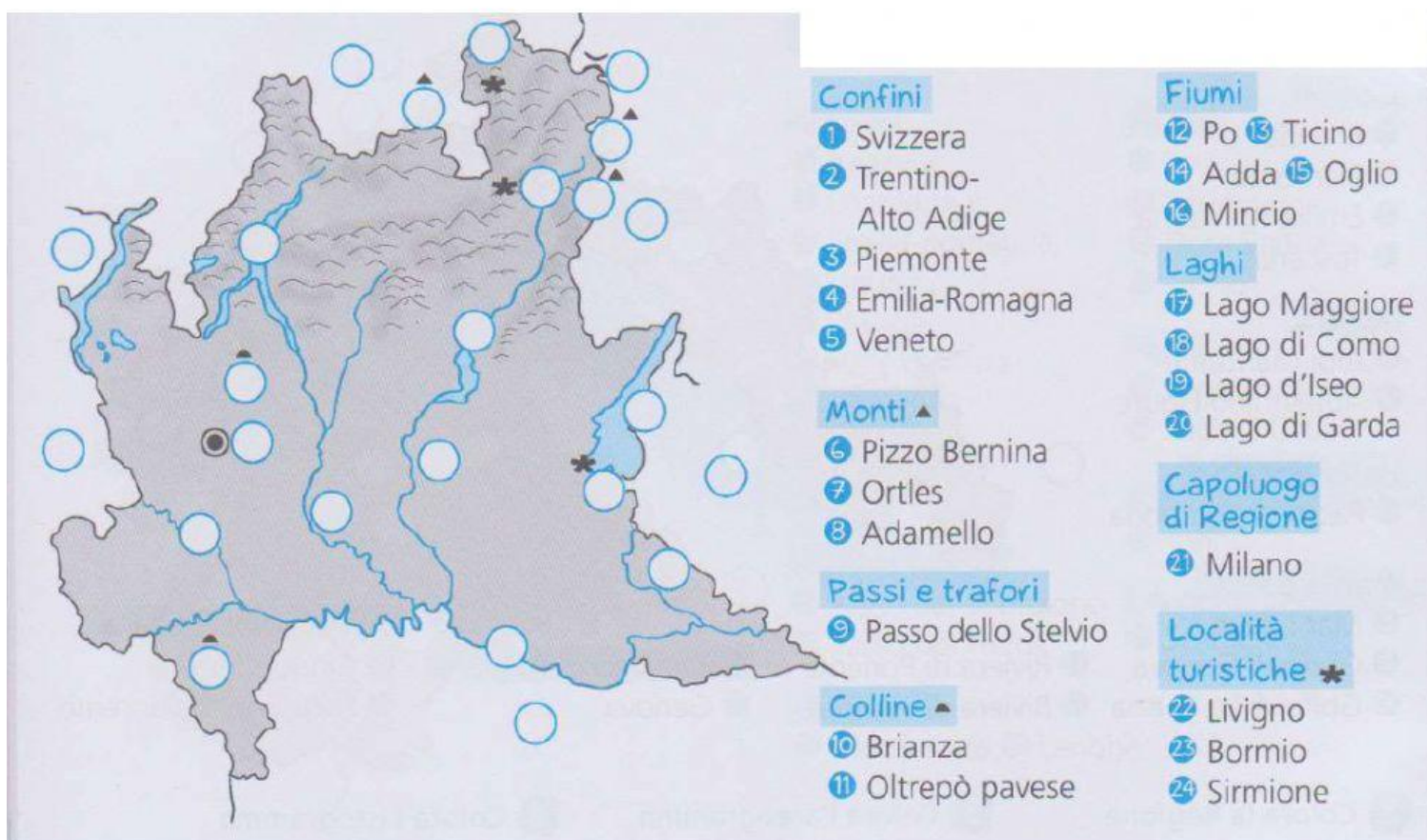
E ora osserva la cartina e completa:



Quale areogramma rappresenta giustamente il territorio della Lombardia?



Aiutandoti con i simboli indicati, riporta i numeri sulla cartina



Vero o falso?

- L'industria è sviluppata in tutti i settori
- L'agricoltura è organizzata secondo le tecniche più moderne.
- È poco sviluppato il settore terziario.
- Le vie di comunicazione facilitano i commerci.

V	F
V	F
V	F
V	F
V	F

**Unisci per completare le frasi.**

L'economia della regione...	... facilitano gli scambi commerciali.
L'agricoltura è soprattutto di tipo intensivo:...	... meccaniche, chimiche, elettroniche, alimentari e tessili.
Sono presenti numerose industrie...	... si coltivano cereali, ortaggi e frutta.
Strade, autostrade, ferrovie e aeroporti...	... è molto fiorente in tutti i settori.

**Completa il testo scegliendo le parole esatte.**

Il territorio della Lombardia si divide quasi equamente tra pianura e zone montuose: procedendo da nord a sud troviamo prima la zona delle Alpi, le ..... le colline e infine la ..... che occupa quasi la totalità della metà meridionale della regione. Nella zona delle Prealpi troviamo i più importanti ..... italiani, tutti di origine ..... Infatti il lago ..... è il più grande lago italiano. I ghiacciai delle Alpi danno vita anche a numerosi fiumi e alcuni di questi, come il ....., l'Adda, l'Oglio e il Mincio, finiscono per alimentare il corso del fiume ..... che attraversa tutta la zona sud della Lombardia. Il clima nella zona pianeggiante è ..... con inverni freddi e nebbiosi ed estati calde e afose; è più mite vicino ai laghi mentre sulle montagne troviamo un clima ..... La Lombardia è la prima regione in Italia per numero di ..... e la seconda per ..... di popolazione. La conformazione del territorio e l'abbondanza di laghi e fiumi è stata importantissima per la crescita dell' .....: si pratica un'agricoltura ..... e si coltivano soprattutto mais, frumento, frutta e ortaggi. Inoltre nelle zone collinari ci sono due dei più importanti distretti vinicoli italiani. L'industria lombarda è al primo posto in Italia con grandi ..... e numerose aziende di piccole e medie dimensioni che operano in ogni settore produttivo. Molto sviluppato è anche il settore ..... grazie alla presenza di sedi di banche, società finanziarie, informatiche, agenzie pubblicitarie, case editrici e aziende di moda.