



1. Quale criterio è stato usato per classificare questi animali?



- ☐ A. Sono tutti uccelli.
- ☐ B. Sono tutti animali che volano.
- ☐ C. Sono tutti animali che vanno in letargo.

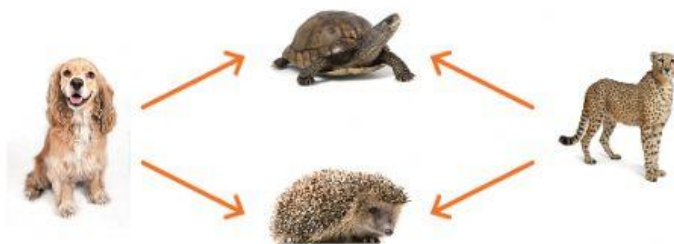
2. Osserva il disegno.



Quale frase è falsa?

- ☐ A. Alcuni bambini hanno gli occhiali.
- ☐ B. Nessun bambino ha i pantaloni lunghi.
- ☐ C. Tutti i bambini hanno il cappello.

3. La freccia dice: "è più veloce di".



Indica se le frasi sono vere o false. Metti una X per ogni riga.

| | vero | falso |
|---|------|-------|
| a) Il cane è più veloce del riccio. | | |
| b) Il riccio è meno veloce del ghepardo. | | |
| c) Il ghepardo è meno veloce della tartaruga. | | |
| d) Il ghepardo è più veloce del riccio. | | |

4. Anna sa nuotare.

Dove scrivi il suo nome?

| | sanno nuotare | non sanno nuotare |
|---------|---------------|-------------------|
| maschi | Giorgio | Francesco |
| femmine | Pia | Lea |

- ☐ A. Dove è scritto il nome di Giorgio.
- ☐ B. Dove è scritto il nome di Pia.
- ☐ C. Dove è scritto il nome di Lea.