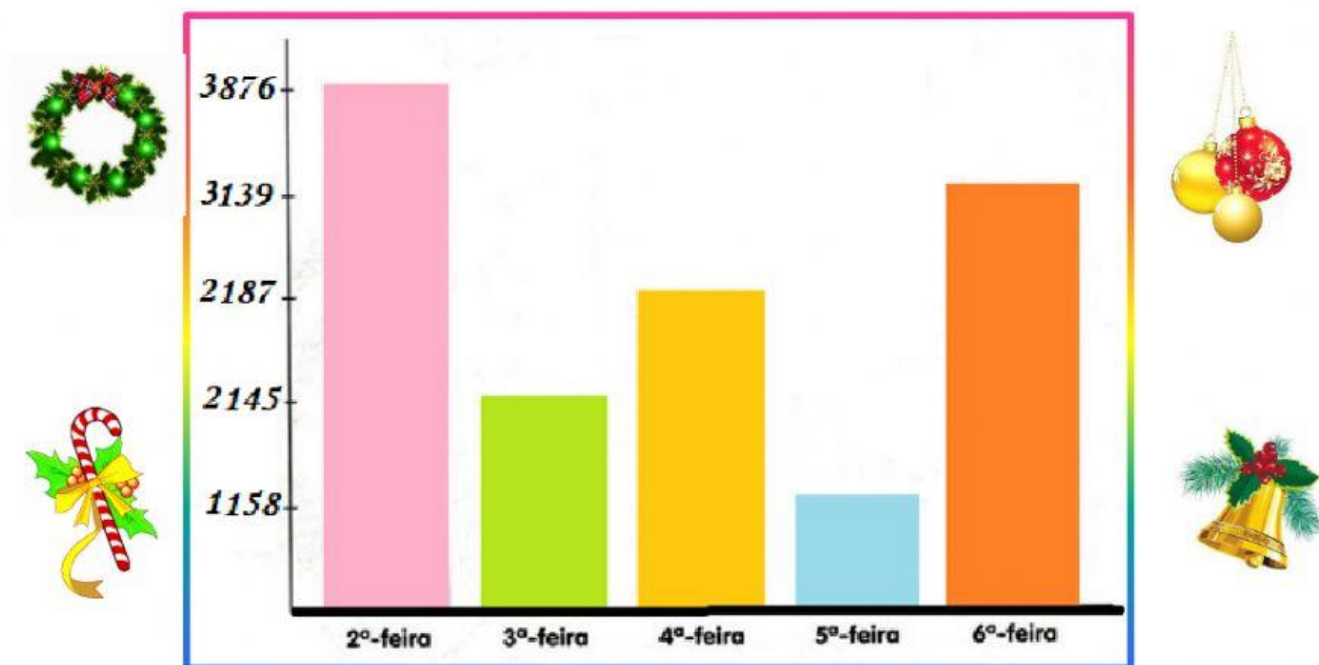




- O gráfico abaixo representa a venda de enfeites de Natal de uma fábrica durante uma semana.



- Preencha a tabela de acordo com o gráfico:

Dias da Semana	Quantidade de enfeites vendidos
Segunda-feira	
Terça-feira	
Quarta-feira	
Quinta-feira	
Sexta-feira	

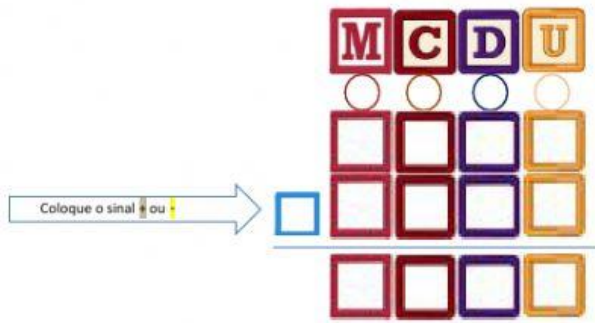
- Qual dia vendeu mais enfeites? \_\_\_\_\_
- Qual dia vendeu menos enfeites? \_\_\_\_\_
- Quantos enfeites foram vendidos Segunda e Sexta? \_\_\_\_\_



Coloque o sinal **+** ou **-**

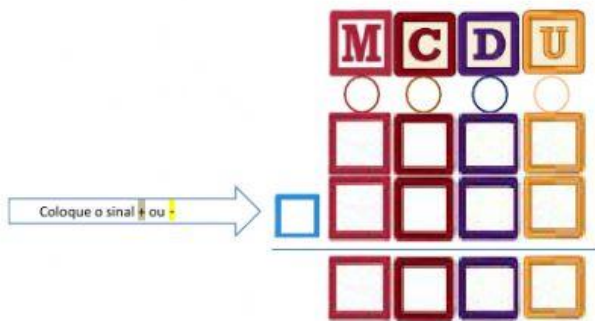
Resposta: \_\_\_\_\_

d. Segunda-feira vendeu quantos enfeites a mais que quinta-feira?



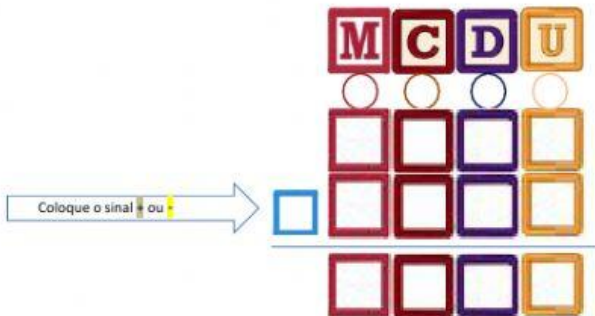
Resposta: \_\_\_\_\_

e. Quinta-feira vendeu quantos enfeites a menos que Terça-feira?



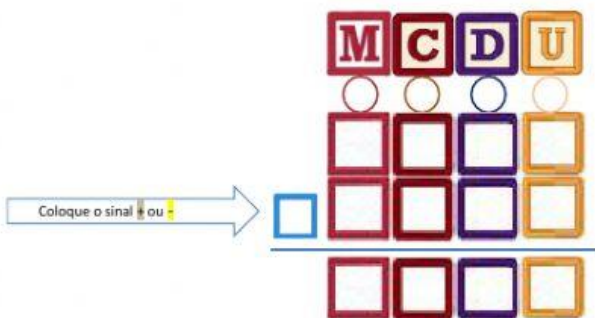
Resposta: \_\_\_\_\_

f. Quantos enfeites foram vendidos Quarta e Quinta-feira?



Resposta: \_\_\_\_\_

g. A quantidade vendida na Terça-feira foi enviada para uma loja. Quem recebeu a compra verificou que 129 enfeites estavam quebrados. Quantos enfeites estavam inteiros?



Resposta: \_\_\_\_\_