 <p>CENTRO EDUCACIONAL "PROFESSOR HENRIQUE BUSS" <i>"Educar para transformar"</i> 20 Anos</p>	São Ludgero, _____ de dezembro de 2020.	AVALIAÇÃO FINAL
	Professora:	Ano/ Turma: 2º -
	Estudante:	Nota:
	Assinatura pais/responsáveis:	

AVALIAÇÃO FINAL DE CIÊNCIAS

Assuntos: O céu; Astros luminosos e iluminados; Componentes do ambiente; Os animais;
 As plantas; O corpo e o ambiente.

1) Ligue cada astro ao seu nome.





SOL



LUA

TERRA

2) Assinale o astro onde nós vivemos.



3) Assinale o Sol correto de acordo com a posição das sombras.



4) Observe a imagem a seguir e depois escreva o nome de dois seres vivos e de dois componentes não vivos.



SERES VIVOS

COMPONENTES NÃO VIVOS


1-

1-




2-

2-

5) Observe a figura e escreva o nome correto para cada parte da planta.



6) Ligue os animais de acordo com o ambiente em que vivem.



AMBIENTE TERRESTRE




AMBIENTE AQUÁTICO

7) Encontre no diagrama o nome dos 5 sentidos:

P	A	L	A	D	A	R	Ã	O
R	G	O	L	F	A	T	O	U
H	W	O	F	Y	T	H	R	I
F	V	I	S	Ã	O	H	G	Z
N	C	A	U	D	I	Ç	Ã	O
L	K	N	V	T	A	T	O	X


8) Arraste os animais para a coluna a adequada.



NASCEM DE OVOS

NASCEM DA BARRIGA DA MÃE

9) Observe a imagem e responda as questões a seguir.



a) Qual o nome desse animal?

R.:

d) Ele vive na...



água.



terra.

c) Ele tem o corpo coberto por...



escamas.



pelos.

b) Ele se locomove...



nadando.



andando ou correndo.




10) Arraste as placas conforme o local em que cada planta vive.

**Plantas
aquáticas**

**Plantas
terrestres**

**Plantas
aquáticas**

**Plantas
terrestres**



11) Ligue a parte do corpo que as crianças usam para:



VER O SOL



LAVAR O ROSTO E
SENTIR A ÁGUA



SENTIR O CHEIRO DO
PERFUME



SENTIR O SABOR DOS
ALIMENTOS



OUVIR A MAMÃE
CONTANDO HISTÓRIA

NARIZ



ORELHA



OLHO



MÃO



LÍNGUA



-
- Atividades elaboradas pelas professoras dos 2º anos do Centro Educacional Professor Henrique Buss.
 - Imagens retiradas da Internet.