
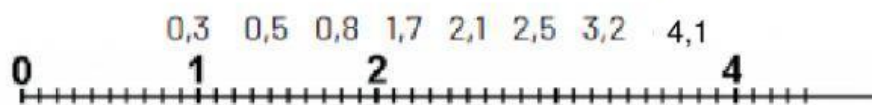


ATIVIDADES

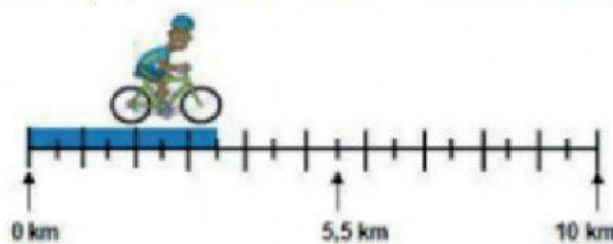
1 - Escreva em cada círculo o número que corresponde a cada seta.




2 - Desenhe uma reta numérica e coloque os numerais no lugar correto:



3 - Este ciclista percorreu o espaço mostrado abaixo. Qual foi a distância percorrida por ele?



4 - O número decimal marcado na reta numérica é:



5 - Escreva os números decimais correspondentes aos pontos indicados pelas letras A, B e C na reta numérica a seguir.



A = _____ B = _____ C = _____