

## SOAL ULANGAN HARIAN

### SEJARAH INDONESIA

#### KELAS XI IPS

1. Sejak 18 September 1811, wilayah Hindia Belanda jatuh ke tangan Inggris. Salah satu penyebab kondisi tersebut adalah . . .
  - A. Inggris dan Belanda sepakat menandatangani Kapitulasi Tuntang
  - B. Janssens gagal mempertahankan Pulau Jawa dari serangan Inggris
  - C. Daendels menjual tanah kepada pihak swasta untuk memperkaya diri
  - D. Louis Napoleon mengangkat Daendels sebagai pemimpin di Republik Bataaf
  - E. Daendels mengganti raja-raja di Jawa yang menghalangi kepentingan Belanda
2. Kedatangan bangsa-bangsa Eropa ke Indonesia berkaitan erat dengan periode penjelajahan samudra. Tujuan utama bangsa-bangsa Eropa melakukan penjelajahan samudra adalah . . .
  - A. Mencari daerah baru
  - B. Memperluas wilayah kekuasaan
  - C. Menghindari kesewenangan gereja
  - D. Mengembangkan ilmu pengetahuan
  - E. Membangun jalur perdagangan baru
3. Pilihlah nama yang sesuai dengan gambar para penjelajah samudera dari Spanyol berikut!





4. Buatlah garis ke jawaban yang benar tentang bendera dari bangsa-bangsa Barat yang berhasil mencapai Kepulauan Indonesia berikut!



Belanda



Inggris



Portugis

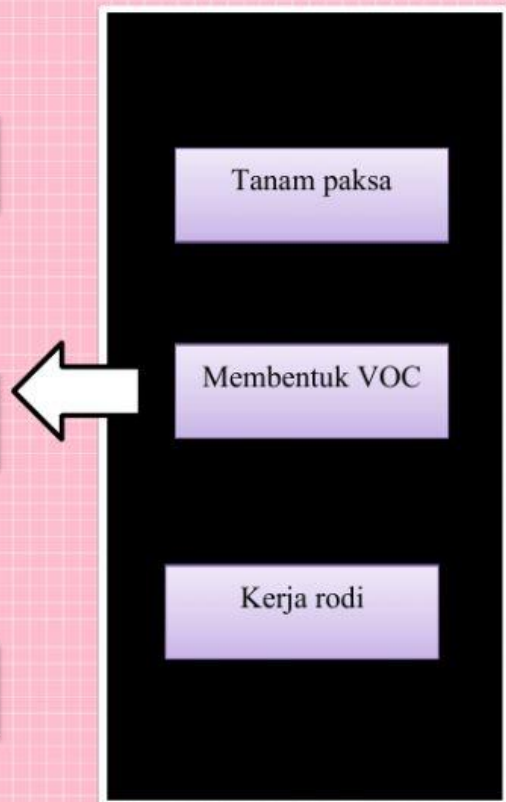





Spanyol

5. Tiga semboyan yang mendorong bangsa-bangsa Barat melakukan penjelajahan samudera adalah
6. Masa pemerintahan Gubernur Jenderal Daendels ditandai dengan kebijakan-kebijakan yang membawa penderitaan bagi rakyat Hindia Belanda. indikator berikut yang turut menyebabkan penderitaan rakyat adalah . . . .
- A. Pemerintahan Daendels dipusatkan di Pulau Jawa
  - B. Masa pemerintahan Daendels hanya berlangsung singkat
  - C. Daendels bertugas memperbaiki keuangan Kerajaan Belanda
  - D. Daendels memberlakukan kerja rodi dalam pembangunan jalur Anyer-Panarukan
  - E. VOC mengeruk keuntungan besar dari monopoli perdagangan rempah-rempah



7. Salah satu pendorong penjelajahan samudra bangsa-bangsa Eropa adalah jatuhnya Konstantinopel ke tangan bangsa Turki Ottoman pada 1452. Jatuhnya Konstantinopel berpengaruh besar bagi bangsa-bangsa Eropa karena . . . .
- A. Harga jual rempah-rempah di pasar Eropa meningkat
  - B. Hubungan dagang antara Eropa dan Asia terputus
  - C. Pedagang-pedagang India menutup bandar Konstantinopel
  - D. Bangsa Turki Ottoman membangun jalur perdagangan baru
  - E. Rempah-rempah bermanfaat untuk mengawetkan makanan
8. Pada dasarnya VOC merupakan sebuah kongsi dagang Belanda yang bertugas membantu keuangan Kerajaan Belanda. Dalam perkembangannya, VOC justru bertindak seperti sebuah negara karena . . . .
- A. Adanya persaingan dengan kongsi dagang Inggris
  - B. Adanya praktik korupsi oleh pejabat VOC
  - C. Gubernur jenderal memiliki kekuasaan penuh
  - D. Adanya hak oktroi yang dimiliki VOC
  - E. Pengelolaan VOC dilakukan oleh Heeren Zeventeen
9. Tariklah nama kebijakan pada masa kolonialisme bangsa Barat sesuai dengan gambar berikut!








10. VOC merupakan perusahaan dagang Belanda yang dibentuk pada tahun 1602. Kepanjangan dari VOC adalah

11. Dalam menghadapi Perang Diponegoro (1825-1830), Belanda menerapkan strategi benteng stelsel. Strategi tersebut dijalankan Belanda dengan cara . . . .

- A. Merekrut mata-mata yang berasal dari penduduk lokal
- B. Mendirikan benteng di setiap daerah yang berhasil ditaklukkan
- C. Mengepung pos-pos gerilya yang didirikan pasukan Diponegoro
- D. Mengajak Pangeran Diponegoro berunding di benteng milik Belanda
- E. Membentuk pasukan gerilya untuk menghadapi pasukan Diponegoro

12. Pilihlah nama yang sesuai dengan gambar para pemimpin perlawanan bangsa Indonesia dari berbagai daerah berikut!



13. Perhatikan pernyataan berikut!

- 1) VOC mengajak Sultan Agung berunding
- 2) VOC memiliki perlengkapan senjata lebih baik
- 3) Pasukan Mataram kehabisan sumber makanan
- 4) Sultan Agung menerima bujukan Belanda agar menghentikan peperangan
- 5) Pasukan Mataram mengalami kelelahan


Fakta penyebab kekalahan Sultan Agung dalam serangan kedua terhadap kedudukan VOC di Batavia pada 1629 ditunjukkan oleh angka . . . .

- A. 1), 2), dan 3)
- B. 1), 3), dan 4)
- C. 2), 3), dan 5)
- D. 2), 3), dan 4)
- E. 2), 4), dan 5)



14. Perlawanan rakyat Bali terhadap Belanda disebut dengan Perang Puputan, pemimpin rakyat Bali adalah

15. Buatlah garis ke jawaban yang benar tentang nama pemimpin perlawanan rakyat Indonesia terhadap Belanda berikut!



Pangeran Antasari



Sultan Hasanuddin



Pattimura



Tuanku Imam Bonjol

16. Perlawanan bangsa Indonesia terhadap kolonialisme Eropa sebelum abad ke-20 identik dengan kegagalan. Salah satu kondisi tersebut disebabkan oleh faktor . . . .

- A. Persenjataan Belanda lebih lengkap
- B. Perpecahan ideologi dalam masyarakat
- C. Pengetahuan strategi perang yang terbatas
- D. Perlawanan dipimpin oleh kaum terpelajar
- E. Perlawanan masih bersifat kedaerahan



17. Salah satu pemicu munculnya Perang Puputan pada 1846 adalah tuntutan Belanda kepada Kerajaan Buleleng agar hukum tawan karang dihapus. Tuntutan tersebut diajukan Belanda karena . . . .

- A. Belanda mengalami kerugian akibat hukum tawan karang
- B. Hukum tawan karang mencegah Belanda berdagang di Pulau Bali
- C. Kerajaan-kerajaan di Pulau Bali saling berperang satu sama lain
- D. Raja-raja Bali berhak merampas semua kapal Belanda
- E. Belanda berhasil menjalin kerja sama dengan raja-raja Bali

18. Perlawanan rakyat terhadap kolonialisme Eropa telah terjadi sebelum abad ke-20. Meskipun demikian, terdapat perbedaan perlawanan bangsa Indonesia sebelum dan sesudah abad ke-20. Salah satu ciri perlawanan rakyat setelah abad ke-20 adalah . . . .

- A. Bersifat kedaerahan
- B. Menggunakan organisasi modern yang teratur
- C. Bergantung kepada pemimpin karismatik
- D. Mengandalkan perjuangan fisik
- E. Berpusat di daerah pedesaan

19. Tariklah garis nama pemimpin perang perlawanan rakyat Indonesia terhadap belanda berikut!

Perang Padri

Perang Puputan

Perang Banjar

Perang Tapanuli

Pangeran Antasari

Sisingamangaraja XII

I Gusti Ketut Jelantik

Tuanku Imam Bonjol

20. Perlawanan rakyat Banten terhadap Belanda dipimpin oleh Sultan Ageng Tirtayasa, akan tetapi perlawanan tersebut kalah karena anak Sultan Ageng Tirtayasa terhasut oleh Belanda. Anak Sultan Ageng Tirtayasa bernama