

Numerele 0 – 10

(2)




M. E. M.

-clasa pregătitoare-

1. Numără elementele fiecărei mulțimi și completează după model:



**10 MERE**



2. Pornind de la căsuța 3, Elful Eli merge două căsuțe spre stânga, apoi 9 căsuțe spre dreapta. La ce căsuță ajunge Elful Eli?



Răspuns: .....

3. Completează fiecare șir cu încă 3 numere:

0; 2; 4; □; □; □.

1; 3; □; □; □.

9; 8; 7; □; □; □.

4. Pune oameni de zăpadă, brazi sau globuri pentru a completa careul. Pe fiecare linie și coloană imaginea trebuie să apară o singură dată.

