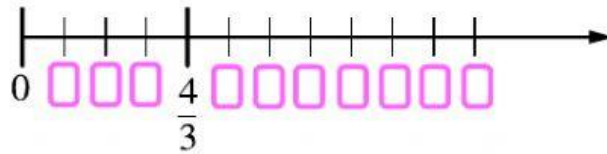


שם:

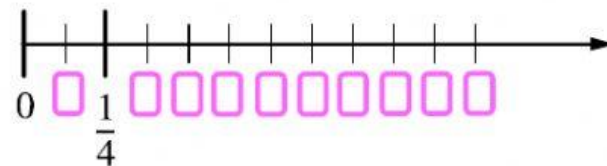
## מהות השבר וישר המספרים

### שאלה 1

א. גררו את המספר 1 למקום המתאים על ישר-המספרים.

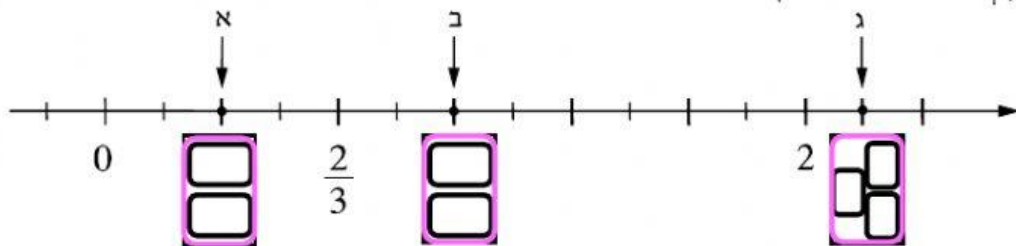


ב. גררו את המספר 1 למקום המתאים על ישר-המספרים.



### שאלה 2

לפניכם ישר-מספרים. קְתְבוּ מתחת לכל חץ את המספר המתאים.



### שאלה 3

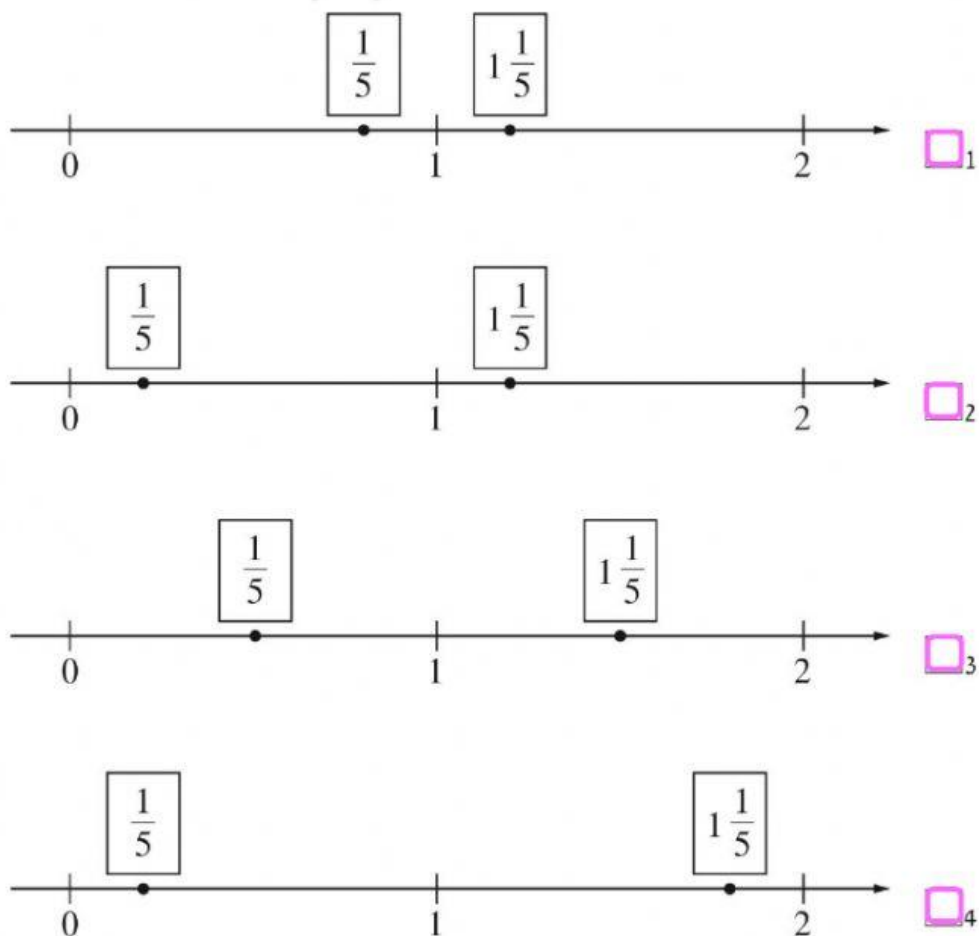
דני אכל  $\frac{1}{2}$  עוגה.

את שאר העוגה הוא חילק שווה בשווה בין 3 חברים.  
איזה חלק מהעוגה השלמה קיבל כל אחד משלושת החברים?

תשובה:

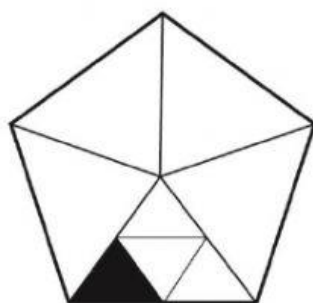
### שאלה 4

באיזה ציר מספרים כתובים שני המספרים:  $\frac{1}{5}$  ו- $1\frac{1}{5}$  במקומות המתאימים?



**שאלה 5**

בסרטוט שלפניכם מחומש שכל צלעותיו שוות. איזה חלק מהמחומש צבוע בשחור?



- $\frac{1}{20}$   1
- $\frac{1}{16}$   2
- $\frac{1}{5}$   3
- $\frac{1}{4}$   4