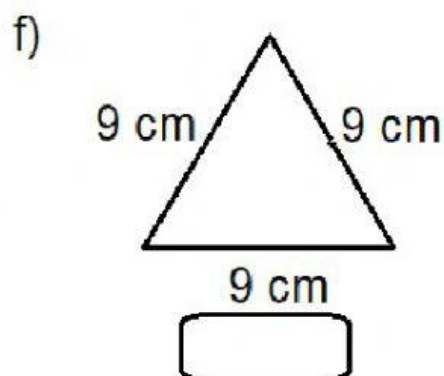
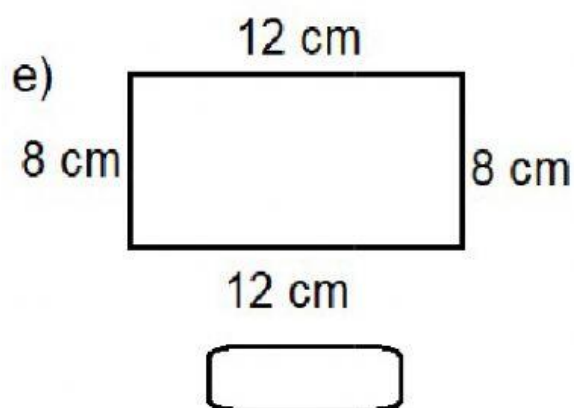
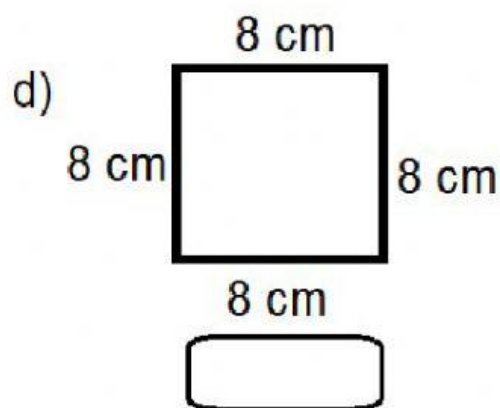
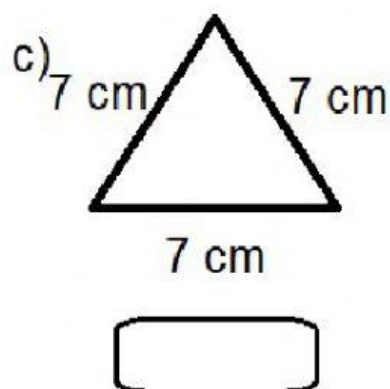
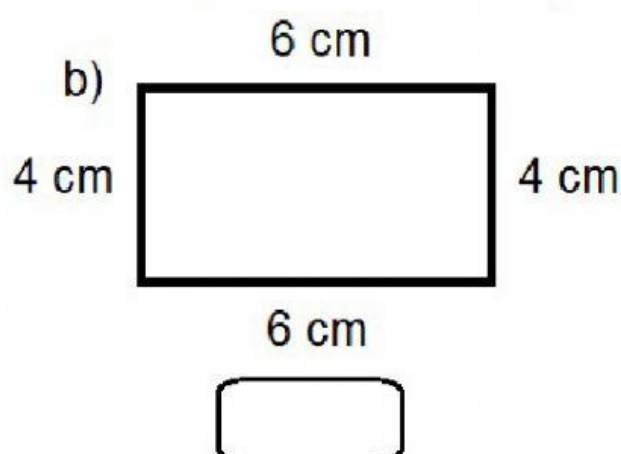
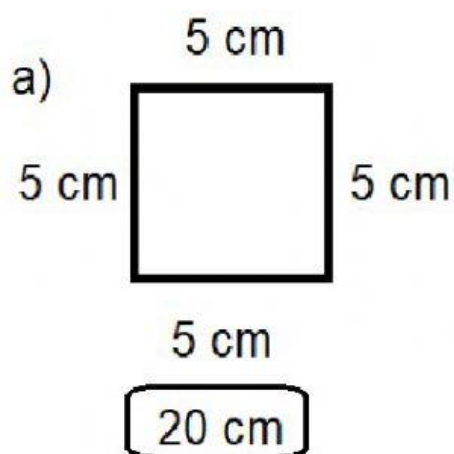


Aluno: _____ Data: _____

1) Calcule o perímetro das figuras geométricas em seu caderno e escreva o resultado. Faça como no exemplo:



Faça com atenção! Interprete as perguntas antes de respondê-las:

Leia com atenção as histórias matemáticas e marque:

2- Se o lado de um quadrado mede 7cm quanto vale seu perímetro?




a)

b)

c)

3 - Se um dos dois lados de um retângulo mede 4 cm, e os outros dois, 8 cm. Quanto vale o perímetro desse retângulo?

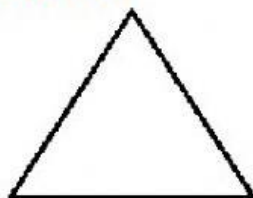


a)

b)

c)

4 - Se o lado de um triângulo de lados iguais mede 13 cm, quanto vale seu perímetro?



a)

b)

c)