

55.orria

1.-Osatu taula hau ereduari jarraituz.

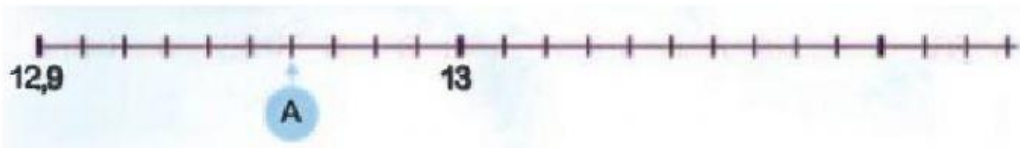
Zatika	Adierazpen hamartarra	Irakurri
$\frac{5}{10}$	0,5	Bost hamarren
$\frac{2}{100}$		
$\frac{46}{100}$		Berrogeita sei ehunen
$\frac{25}{1.000}$	0,025	Hogeita bost milaren

2.-Adierazi zenbaki dezilmaduk hauek, zatiki baliokide gisara.


$$3,5 = \frac{35}{10} = \frac{\square}{\square}$$

$$0,25 = \frac{25}{100} = \frac{\square}{\square}$$

3.-Zein zenbaki dezimaldun adierazten dituzte puntuok zenbaki-zuzenean?

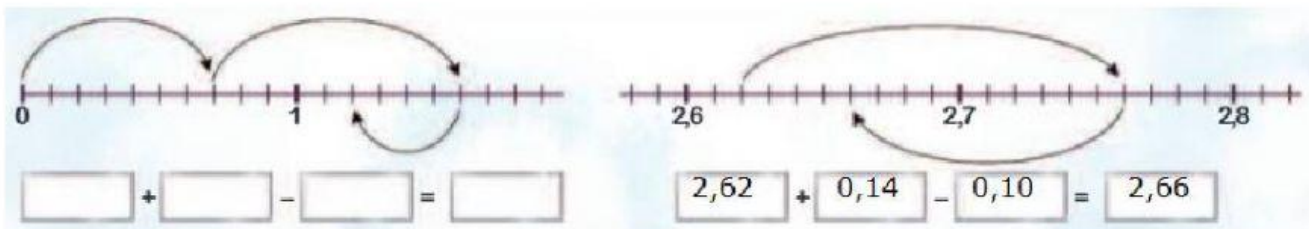


A =



C =
 D =
 E =

4.-Begiratu ondo honako eskema honi eta adierazi zer eragiketa egin den bakoitzean.



5.- 70€ banatu behar ditugu hiru lagunen artean. Zenbat diru egokituko zaio bakoitzari?

€ zentimo