

Unidad 3 (C. Naturales)

1. Elige la opción correcta.

Todos los seres vivos tenemos **en común** dos cosas:

- a) Realizamos la nutrición y relación y estamos formados por órganos.
- b) Realizamos las funciones vitales y estamos formados por células.

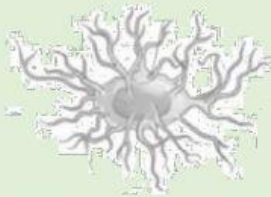
2. Arrastra el nombre de cada célula al dibujo que le corresponde.

Célula intestinal

Célula muscular

Célula de la sangre

Célula ósea



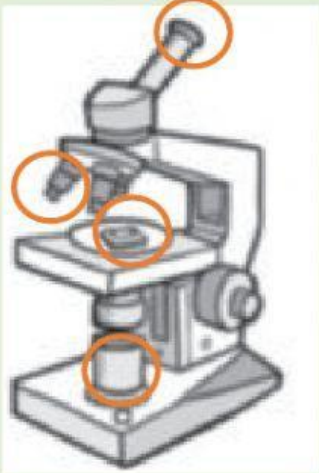
3. Señala en el microscopio sus partes.

objetivo

ocular

muestra

Fuente de iluminación



4. Ordena de más sencillo a más complejo (del 1 al 4) los siguientes niveles de organización del cuerpo humano.

1 2 3 4

5. Explica que es un sistema y un aparato y pon un ejemplo de cada uno.

Un sistema es:

- a) un conjunto de órganos de diferente tipo o varios sistemas que funcionan de manera coordinada para realizar un trabajo.
- b) un conjunto de órganos del mismo tipo que realizan la misma función.

Ejemplo:

Un aparato es:

- a) un conjunto de órganos de diferente tipo o varios sistemas que funcionan de manera coordinada para realizar un trabajo.
- b) un conjunto de órganos del mismo tipo que realizan la misma función.

Ejemplo:

6. Completa.

Mediante la _____ conseguimos todos los _____ y la _____ que necesitamos para mantenernos vivos. Y estos se obtienen de los _____ que contienen los alimentos.

7. Coloca cada aparato en su lugar.

-
-
-
-

	Sirve para obtener el oxígeno del aire.
	Es la expulsión de las sustancias de desecho que se producen en el cuerpo durante la nutrición.
	Consiste en obtener los nutrientes contenidos en los alimentos.
	Reparte por todo el cuerpo el oxígeno y las sustancias útiles de los alimentos y retira las sustancias de desecho.

8. Completa:

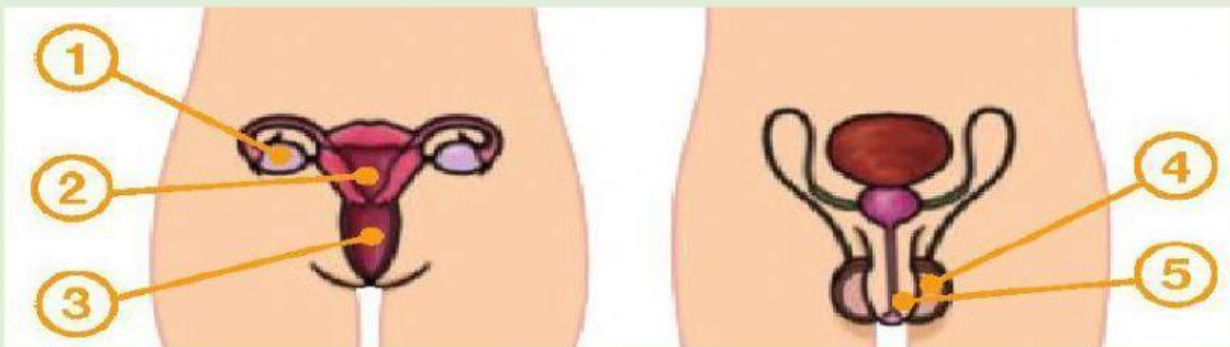
La función de _____ consiste en tener _____ .

Las personas somos _____ , los bebés se desarrollan en el vientre de la madre.

El recién nacido se alimenta de _____ , que le aporta los _____ que necesita.

9. Coloca cada órgano reproductor en su lugar.

- uretra
- útero
- ovario
- testículo
- vagina



10. Completa:

Durante _____ meses, aproximadamente, el futuro bebé se desarrolla en el _____ de su madre. Todos sus _____ se van desarrollando hasta que está preparado para _____ .