



LA MATÈRIA



1. - Indica si són veritables (V) o falses (F) les següents afirmacions:

- V F La matèria és tot allò que té massa i volum.
- V F Les úniques propietats específiques de la matèria són la densitat i la flotabilitat.
- V F Tota la matèria es presenta en estat sòlid.
- V F Els líquids adapten la seva forma al recipient que els conté.
- V F Els gasos tenen una forma invariable. Sempre tenen la mateixa forma.
- V F La fusió és el pas de l'estat sòlid a líquid.
- V F L'evaporació és el pas de l'estat sòlid al gasós.
- V F La solidificació és el pas de l'estat líquid al sòlid.
- V F La condensació és el pas de l'estat líquid al gasós.



2. - Arrossega cada etiqueta al seu lloc corresponent i completa:

LÍQUID

SÒLID

GASÓS

ESTATS DE LA MATÈRIA

 	 	 
<input type="text"/>	<input type="text"/>	<input type="text"/>
FORMA	<input type="text"/>	<input type="text"/>
VOLUM	<input type="text"/>	<input type="text"/>

3.- Arrossega les etiquetes al seu lloc adequat:

CONDENSACIÓ

GASÓS

SOLIDIFICACIÓ

LÍQUID

ESCALFAR

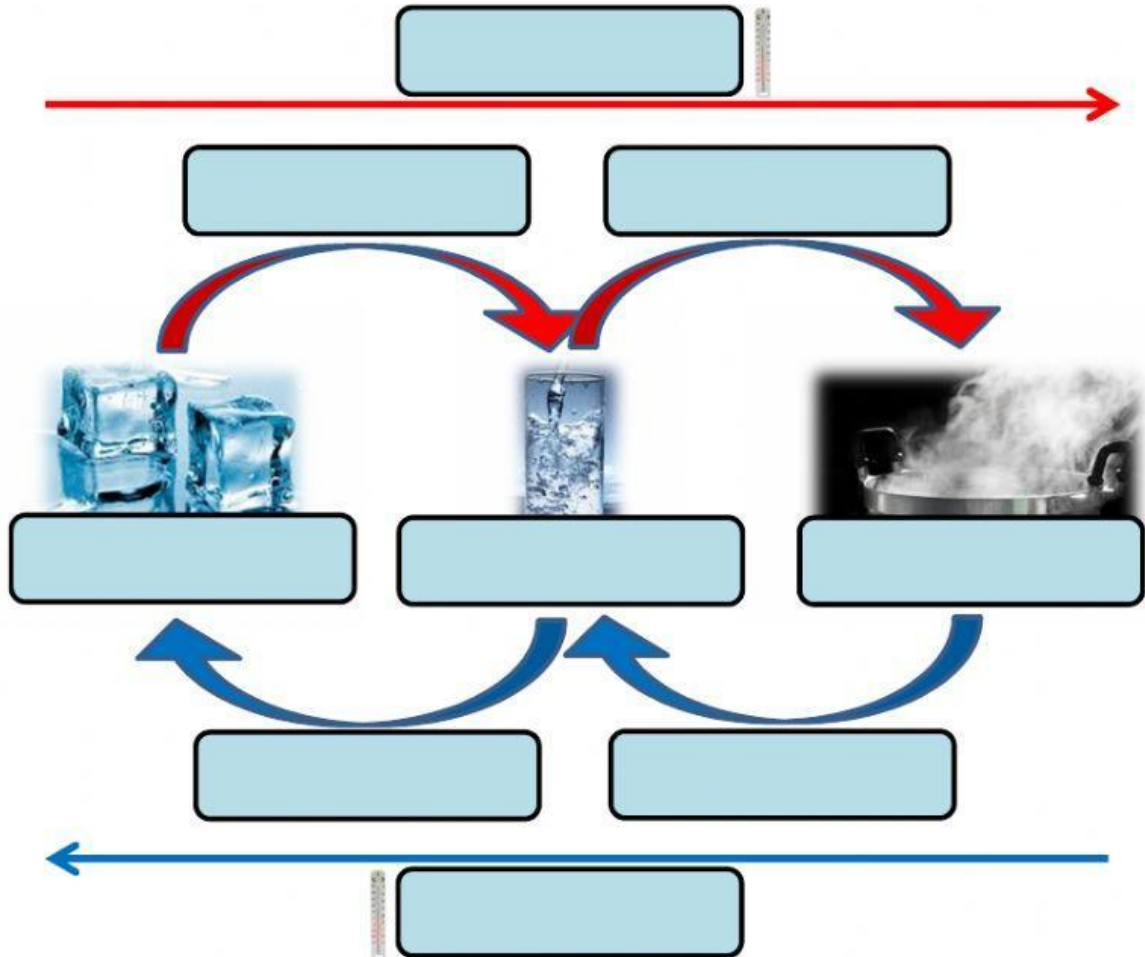
EVAPORACIÓ

REFREDAR

SÒLID

FUSIÓ

CANVIS D'ESTAT DE LA MATÈRIA



4.- Posa l'estat al seu lloc corresponent:

GASÓS

SÒLID

LÍQUID

