
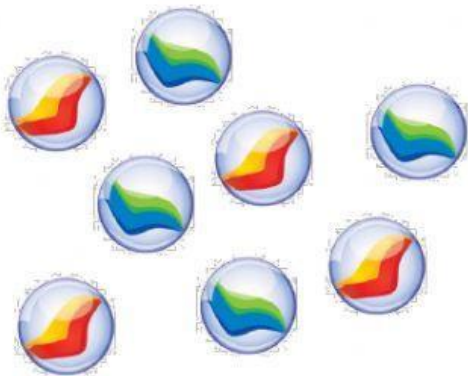


ACTIVIDAD DE REFORZAMIENTO

1. Reparte en partes iguales 8 canicas en 2 tarros. Después completa.



Canicas a repartir



$$\boxed{} : \boxed{} = \boxed{}$$

Tarros

Canicas en cada tarro.

En cada tarro hay canicas.

2. Reparte en partes iguales 15 naranjas en 3 bolsas.



Naranjas a repartir

$$\boxed{} : \boxed{} = \boxed{}$$

Bolsas

Naranjas en cada bolsa.

En cada bolsa hay naranjas.

3. Reparte en partes iguales 12 caramelos en 4 paquetes. Después completa.



$$\square \div \square = \square$$

Selecciona el signo de la división

En cada paquete hay caramelos.

4. ¿Qué significa cada división? Completa.

$$8 : 2 = 4$$

Repartimos fresas en tarteras.

En cada tartera metemos fresas.

$$8 : 2 = 4$$

Repartimos gominolas en bolsas.

En cada bolsa metemos gominolas.