



تدريبات إثرائية الوحدة الأولى

اسم الطالب : الصف الأول : المعيار 1.1.1

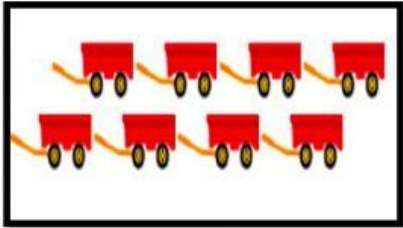
الدرجة (1)			1
			أي مما يلي يمثل العدد الكلي للقوارب ؟
			
		<p>A 8</p> <p>B 9</p> <p>C 10</p>	
الدرجة (1)			2
			أي مما يلي يمثل العدد 2 ؟
		<p>A </p> <p>B </p> <p>C </p>	


الدرجة (6)		3
------------	--	---

عد الأشياء في كل مجموعة. ثم اكتب العدد.
















1- ما ترتيب الفراشة؟

2- ما اسم الحشرة التي تقع أمام العنكبوت؟

3- ما ترتيب الدعسوقة؟

4- ما اسم الحشرة التي تقع بين الدودة و الدعسوقة؟

واجب منزلي




تدريبات إثرائية الوحدة الثانية

اسم الطالب : الصف الأول : المعيار 1.2.1

الدرجة (1)	1
<p>لدى حمد مجموعة من قطع العد. أعطاه أبوه بعض قطع العد.</p> <p style="text-align: center;"> </p> <p>ما جملة الجمع التي تمثل العدد الكلي لقطع العد؟</p> <p><input type="checkbox"/> A $1 + 7 = 8$</p> <p><input type="checkbox"/> B $6 + 3 = 9$</p> <p><input type="checkbox"/> C $5 + 5 = 10$</p>	

الدرجة (4)	2
<p>خذ 3 أسود , اكتب جملة الطرح</p> <p style="text-align: center;"> </p> <p style="text-align: center;"> ■ = </p>	

خذ 4 نمور، اكتب جملة الطرح ؟



$$\dots\dots\dots - \dots\dots\dots = \dots\dots\dots$$

الدرجة (3)	7
------------	---

اكتب جملة الجمع




$$\dots\dots\dots + \dots\dots\dots = \dots\dots\dots$$

واجب منزلي

الدرجة (3)	7
------------	---

اكتب جملة الجمع



$$\dots\dots\dots + \dots\dots\dots = \dots\dots\dots$$

الدرجة (5)

1

أوجد ناتج الطرح بالعد تنازلياً.

$$\begin{array}{r} 8 \\ - 0 \\ \hline \square \end{array}$$

$$\begin{array}{r} 6 \\ - 5 \\ \hline \square \end{array}$$

$$\begin{array}{r} 9 \\ - 4 \\ \hline \square \end{array}$$

$$10 - 4 = \square$$

$$5 - 3 = \square$$

تدريبات إثرائية الوحدة الثالثة

المعيار - 1.2.2 - 1.2.3 -

اسم الطالب: الصف الأول:

1.2.1

الدرجة (2)

اكتب جملة عددية

2

لدى عائشة 10 أقلام حمراء و لدى علياء 10 أقلام زرقاء. ما عدد الأقلام مع عائشة و علياء معاً؟

$$\dots\dots\dots \bigcirc \dots\dots\dots = \dots\dots\dots$$

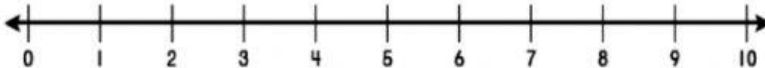
الرؤية : الريادة في توفير فرص تعلم دائمة و مبتكرة ذات جودة عالية للمجتمع القطري

الدرجة (2)	اكتب جملة عددية	3
<p>لدى حمد 7 كتب , اعطى أخيه بعض الكتب , تبقى معه 3 كتب . كم كتاباً اعطى لأخيه؟</p> <p>..... ○ =</p>		

الدرجة (4)		4
<p>أوجد ناتج الجمع.</p> <p></p> <p>$3 + 2 = \dots\dots\dots$</p> <p>غير ترتيب الأعداد المضافة واكتب جملة جمع جديدة .</p> <p>$\dots\dots\dots + \dots\dots\dots = \dots\dots\dots$</p>		

الدرجة (1)		5
<p>على الشجرة 7 طيور، طار 5 طيور منها. ما عدد الطيور الباقية على الشجرة؟</p> <p>ما جملة الطرح المناسبة؟</p> <p></p> <p>A $8 - 3 = 5$</p> <p>B $6 - 2 = 4$</p> <p>C $7 - 5 = 2$</p>		

الدرجة (1)		6
اختر جملة تمثل حقيقة الضعف؟		
<p><input type="checkbox"/> A $3 + 3 = 6$</p> <p><input type="checkbox"/> B $4 + 5 = 9$</p> <p><input type="checkbox"/> C $6 + 4 = 10$</p>		

الدرجة (2)	استعمل خط الأعداد لإيجاد ناتج الجمع تصاعدياً	7
<p>$3 + 5 = \dots\dots\dots$</p> 		



واجب منزلي

الدرجة (2)	استعمل خط الأعداد لإيجاد ناتج الجمع تصاعدياً	8
$7 + 2 = \dots\dots\dots$		
