




Безопасност на движението

Кръстовища


Много бързо става ясно
кое кръстовище е безопасно –
там движението някой регулира,
показва кой да тръгва, кой да спира.



Свържи изображението на всяко кръстовище с наименованието му.

Според формата си кръстовищата са:

звездообразно у-образно кръстообразно т-образно



Вярно ли е, че движението на пешеходци и автомобили при преминаване през кръстовище може да се регулира от



- светофар
- клоун с мегафон
- пътна маркировка (линии по настилката)
- плакати с инструкции
- регулировчик (лице, упълномощено да регулира движението)



Мая Панчева





Свържи частите във верни изречения.



Таксито

• могат да преминат зад гърба му.

Гимнастичките

• трябва да спре и да изчака.

Автобусът

• има право на обратен завой.



Старците

• могат да пресекат.

Червената кола

• може да продължи.

Футболистите

• не могат да пресекат.



● Попълни кръстословицата, за да си припомниш.

бързина на движение,
измерена в км/ч

опасна част от тротоара

знаци, регулиращи
движението по пътя

разстояние между
превозните средства

място за движение
на превозните средства

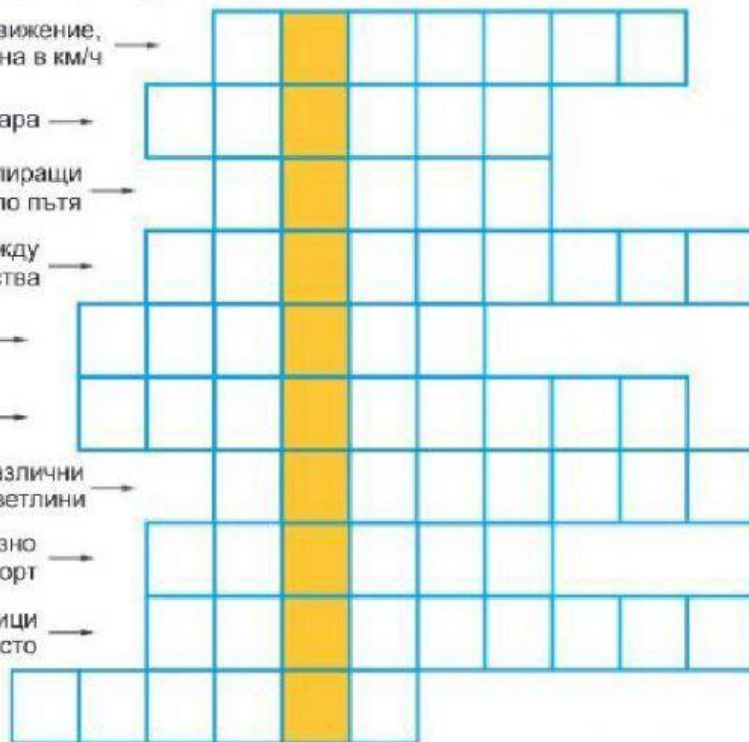
път до училище, който
се стараем да изберем

съоръжение с различни
по цвят светлини

място за спиране на превозно
средство от обществения транспорт

вид транспорт, обслужващ пътници
във и извън населеното място

място за пресичане
под пътното платно





Постави всеки пътен знак в групата, към която принадлежи.

Група А. Предупредителни пътни знаци за опасност.

Група В. Пътни знаци за въвеждане на забрана, отменяне на забрана.

предупредителни

забранителни



задължителни

указателни



Група Г. Пътни знаци със задължителни предписания.

Група Е. Пътни знаци, даващи допълнителна информация. **Група Д.** Пътни знаци със специални предписания



Мая Панчева

