

ATIVIDADE ONLINE

10/12/2020





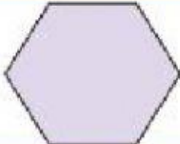
ATIVIDADE DE MATEMÁTICA

4. ENRICO É UM MENINO MUITO ESPERTO: SUA MÃE, PRECISANDO DE TROCO, DEU-LHE UMA NOTA DE R\$ 10,00 PARA TROCAR NA PADARIA E PEDIU-LHE QUE A TROCASSE POR NOTAS DE R\$ 2,00. QUANTAS NOTAS DE R\$ 2,00 ENRICO TEM QUE TER PARA LEVAR PARA SUA MÃE?

- A. 3 NOTAS DE R\$ 2,00
- B. 4 NOTAS DE R\$ 2,00
- C. 1 NOTA DE R\$ 2,00
- D. 5 NOTAS DE R\$ 2,00

5. A PROFESSORA CRISTINA COLOCOU O DESAFIO PARA OS ALUNOS DE SUA CLASSE.

QUAL É O FORMATO DO CONTORNO DE UMA DAS FACES DAS CAIXAS DE PRESENTES?

A		
B		
C		
D		

FONTE: PIXABAY™

FONTE: GRUPO DE REFERÊNCIA DE MATEMÁTICA

14 Disponível em <https://pixabay.com/pt/photos/caixas-cart%C3%A3o-caixa-de-presente-3404606/>