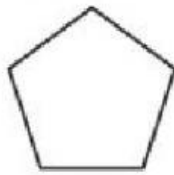


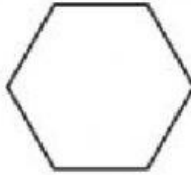
#### ATIVIDADE 44 - 5º ANO - MATEMÁTICA

EF05MA17 - Reconhecer, nomear e comparar polígonos, considerando lados, vértices e ângulos, e desenhá-los, utilizando material de desenho ou tecnologias digitais

1. Observe os polígonos desenhados abaixo.



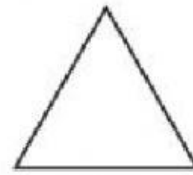
I



II



III



IV

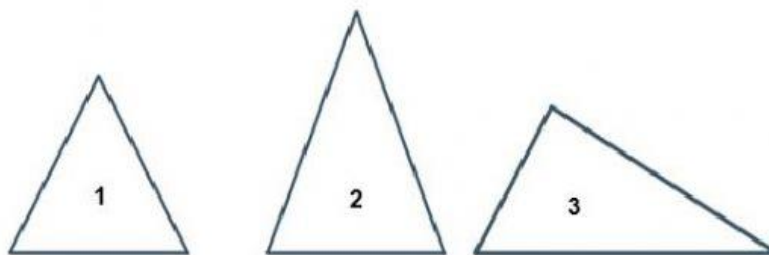
Qual desses polígonos é um hexágono?

- a) I                      c) III  
b) II                     d) IV

2. A professora de Cristiano pediu que ele desenhasse um polígono que tem 7 lados, 7 ângulos e 7 vértices. Como se chama esse polígono?

- A) Heptágono  
B) Hexágono  
C) Pentágono  
D) Decágono

3. Observe os triângulos, analise seus lados e ângulos.



Qual dos três triângulos é um escaleno?

- A) O triângulo 1
- B) O triângulo 2
- C) O triângulo 3
- D) Nenhum dos três.