

### PROBLEMA PAG. 91 N° 202

CI SONO 2 CLASSI PRIME, CIASCUNA FREQUENTATA DA 24 ALUNNI. OGGI SONO ASSENTI 13 ALUNNI. QUANTI ALUNNI SONO PRESENTI?

1° A: 

1° B: 

TOTALE ALUNNI DELLE 2 CLASSI



TOTALE ALUNNI ASSENTI



OPERAZIONE CHE MI PERMETTE DI CALCOLARE GLI ALUNNI PRESENTI

 = 

### PROBLEMA PAG. 91 N° 203

CI SONO 2 CLASSI SECONDE, CIASCUNA FREQUENTATA DA 18 ALUNNI. OGGI SONO ASSENTI 6 ALUNNI. QUANTI ALUNNI SONO PRESENTI?

2° A: 

2° B: 

TOTALE ALUNNI DELLE 2 CLASSI



TOTALE ALUNNI ASSENTI

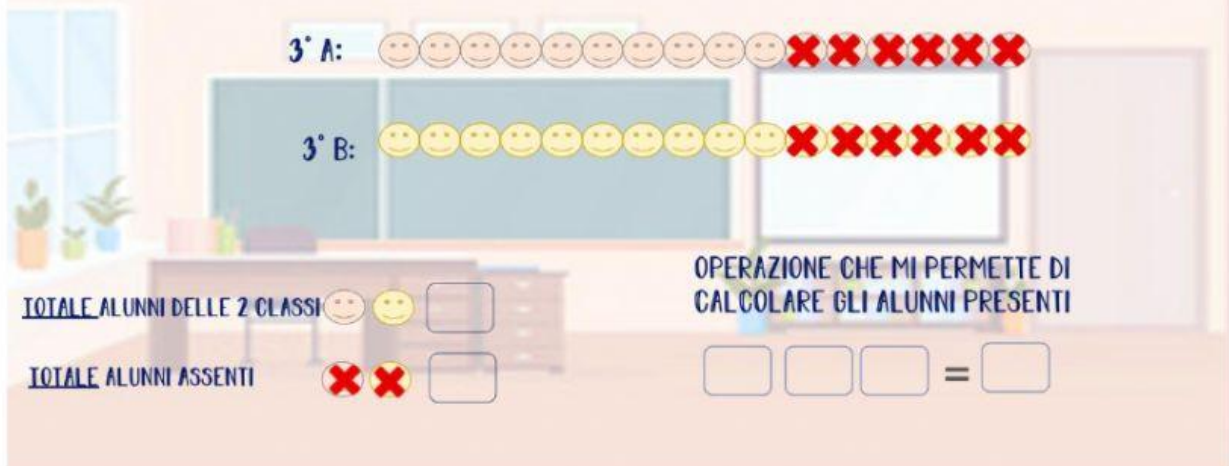




OPERAZIONE CHE MI PERMETTE DI CALCOLARE GLI ALUNNI PRESENTI



 =



### PROBLEMA PAG. 91 N° 204



CI SONO 2 CLASSI TERZE, CIASCUNA FREQUENTATA DA 16 ALUNNI. OGGI SONO ASSENTI 6 ALUNNI PER CLASSE. QUANTI ALUNNI SONO PRESENTI?



3° A:  

3° B:  

TOTALE ALUNNI DELLE 2 CLASSI  

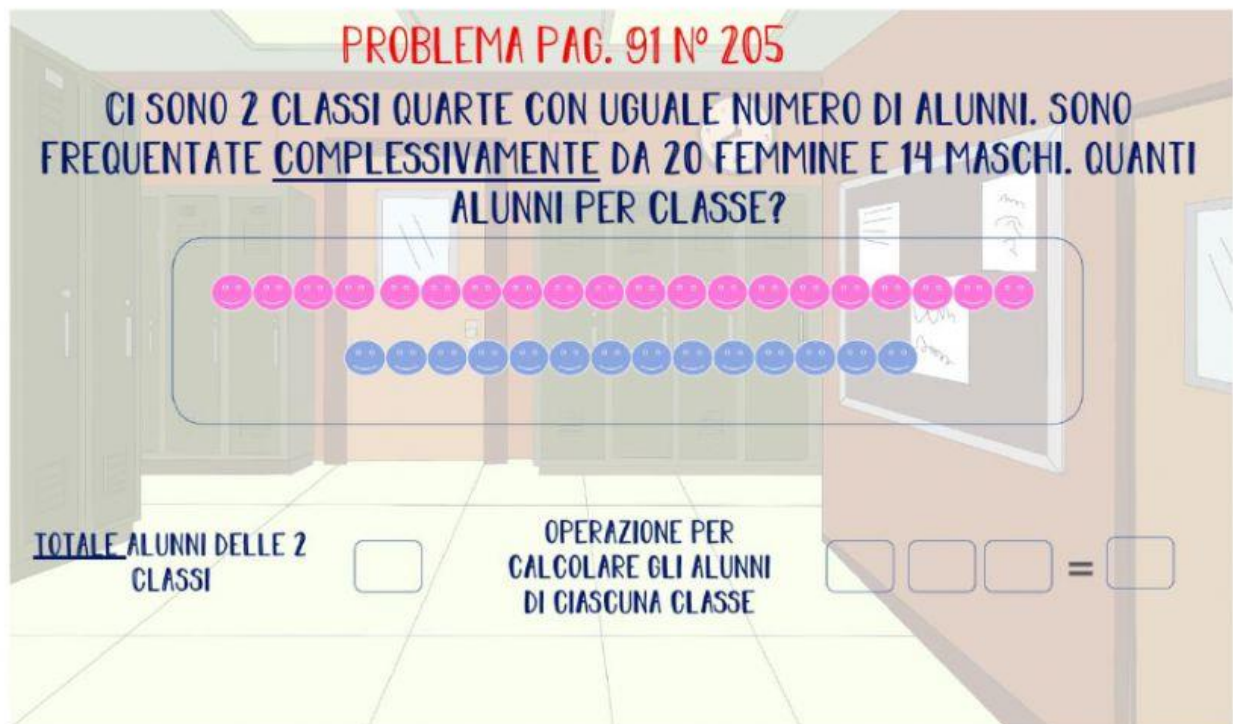
TOTALE ALUNNI ASSENTI  



OPERAZIONE CHE MI PERMETTE DI CALCOLARE GLI ALUNNI PRESENTI

=

### PROBLEMA PAG. 91 N° 205

CI SONO 2 CLASSI QUARTE CON UGUALE NUMERO DI ALUNNI. SONO FREQUENTATE COMPLESSIVAMENTE DA 20 FEMMINE E 14 MASCHI. QUANTI ALUNNI PER CLASSE?



TOTALE ALUNNI DELLE 2 CLASSI

OPERAZIONE PER CALCOLARE GLI ALUNNI DI CIASCUNA CLASSE

=



### PROBLEMA PAG. 91 N° 206

AL BAR CI SONO 5 TAVOLI. BISOGNA DISTRIBUIRE 60 TAZZINE, 60 PIATTINI E 60 CUCCHIAINI. QUANTE STOVIGLIE PER TAVOLO?




QUANTI TAVOLI  STOVIGLIE DA DISTRIBUIRE

OPERAZIONE PER CALCOLARE QUANTE STOVIGLIE PER CIASCUN TAVOLO

=

### PROBLEMA PAG. 91 N° 207

IN BIBLIOTECA C'È UN ARMADIO CON 5 RIPIANI. CONTIENE 12 LIBRI DI STORIA E 8 DI GEOGRAFIA PER RIPIANO. QUANTI LIBRI IN TOTALE?



TOTALE LIBRI PRESENTI SU CIASCUN RIPIANO

OPERAZIONE PER CALCOLARE QUANTI SONO I LIBRI IN TUTTO

RIPIANI    =

### PROBLEMA PAG. 91 N° 209

IN UNA CARTOLERIA CI SONO 2 SCAFFALI. CIASCUNO HA 3 CASSETTI. BISOGNA DISTRIBUIRE ORDINATAMENTE 120 QUADERNI A RIGHE E 120 A QUADRETTI.



QUANTI QUADERNI PER CASSETTO?



TOTALE QUADERNI A RIGHE  
E A QUADRETTI

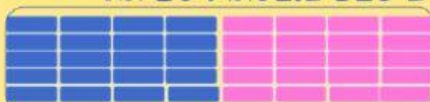
OPERAZIONE PER CALCOLARE  
QUANTI QUADERNI DEVO  
DISTRIBUIRE PER CIASCUN  
CASSETTO


   = 


TOTALE CASSETTI


### PROBLEMA PAG. 91 N° 208


IN UN NEGOZIO CI SONO 2 ARMADI. CIASCUNO HA 4 CASSETTI. OGNI CASSETTO HA 20 MAGLIE BLU E 20 ROSA. QUANTE MAGLIE IN TOTALE?







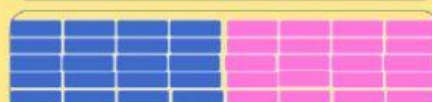













TOTALE MAGLIE IN CIASCUN CASSETTO

NUMERO DI CASSETTI

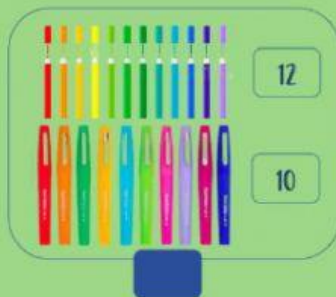
OPERAZIONE PER CALCOLARE LE MAGLIE  
TOTALI IN TUTTI I CASSETTI

   =



### PROBLEMA PAG. 91 N° 210

GIORGIO, DENIS E GIOVANNI COMPRANO UN ASTUCCIO NUOVO PER CIASCUNO. CIASCUNO CONTIENE 12 PENNARELLI FINI E 10 GROSSI. QUANTI PENNARELLI IN TUTTO ?



TOTALE PASTELLI  
CIASCUN ASTUCCIO

IN

OPERAZIONE PER CALCOLARE  
QUANTI PENNARELLI CI SONO IN  
TUTTI E 3 GLI ASTUCCI

 = 

### PROBLEMA PAG. 91 N° 211

CLAUDIA, LUCA E FRANCESCO DEVONO PAGARE 2 VIDEOGIOCHI CHE COSTANO 24 € L'UNO. QUANTO PAGHERA' CIASCUNO?



COSTO TOTALE DEI DUE VIDEOGIOCHI

BIMBI CHE DEVONO  
DIVIDERE LA CIFRA



OPERAZIONE PER CALCOLARE  
QUANTO PAGHERA' CIASCUNO

 =