




Ulangan Matematika Tema 4

Senin, 30 November 2020


KD 3.5 (Pola Bilangan Loncat)

Pilihlah a, b atau c di bawah ini pada jawaban yang benar dengan memberi tanda centang (✓)!

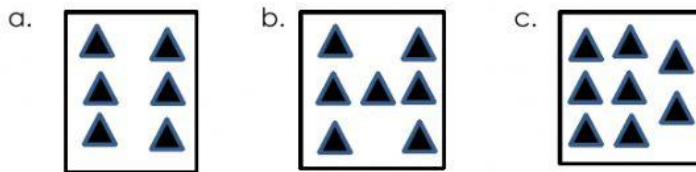


pola bilangan loncat yang tepat pada gambar di atas adalah

- a. 4, 5, 8, 10
- b. 4, 6, 8, 10
- c. 4, 6, 9, 10



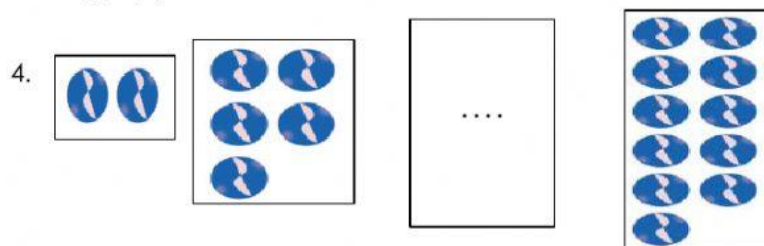
pola gambar yang tepat untuk mengisi kotak yang kosong adalah



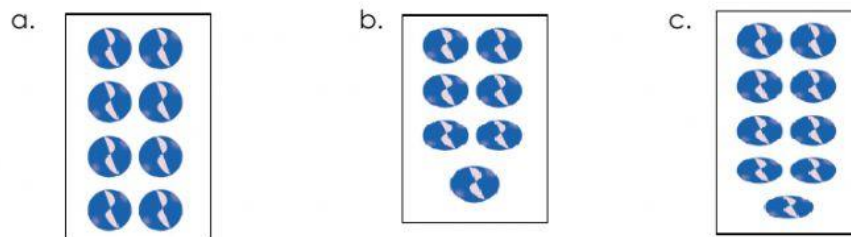
3. 6, 8, 10,

bilangan yang tepat untuk mengisi titik-titik di atas adalah

- a. 12
- b. 13
- c. 14



pola gambar yang tepat untuk mengisi pola kelereng berwarna biru adalah



5. 1, 4, _____, 10

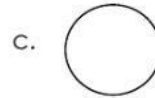
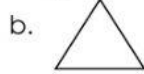
bilangan yang tepat untuk melengkapi di atas adalah

- a. 6
- b. 7
- c. 8



KD 3.6 (Bangun Datar)


6. manakah gambar bangun segitiga adalah

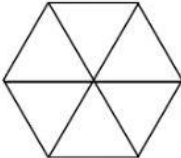


7.  permukaan roda ini berbentuk ..

- a. persegi panjang
- b. Persegi
- c. lingkaran

8. benda yang berbentuk persegi adalah . . .



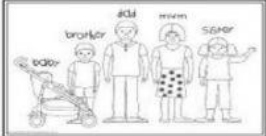
9.  bangun segitiga di samping berjumlah

- a. 4
- b. 5
- c. 6

10. bangun persegi mempunyai . . . sisi

- a. 1
- b. 3
- c. 4

KD 3.8 (Pengukuran Panjang dan Berat dengan Satuan Tak Baku)

11.  lebar foto keluarga lani . . . jengkal tangan

- a. 3
- b. 4
- c. 5

12.  pensil lebih _____ dari penghapus.

- a. lebih pendek
- b. lebih panjang
- c. lebih kecil

13.  terong lebih _____ dari apel.

- a. lebih berat
- b. lebih ringan
- c. sama berat

14.  urutkan keluarga siti dari yang **paling ringan** adalah . . .

- a. Siti, Ibu, Ayah
- b. Ibu, Ayah, Siti
- c. Siti, Ayah, Ibu