


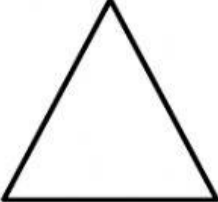




1. Nyatakan **dua** bentuk lakaran yang perlu disediakan dalam reka bentuk fesyen

i.
ii.

2. Padankan istilah dan bentuk asas badan yang berikut dengan menulis **A, B, C** dan **D** pada ruang yang disediakan

<i>A</i>	<i>Tiga Segi</i>
<i>B</i>	<i>Jam pasir</i>
<i>C</i>	<i>Tabular</i>
<i>D</i>	<i>Tiga segi terbalik</i>

3. Rajah di bawah menunjukkan contoh bentuk badan seorang individu.



Tandakan ( / ) bagi reka bentuk fesyen yang sesuai dengan bentuk badan tersebut dan ( X ) bagi yang tidak sesuai pada petak yang disediakan.

Si pemakai boleh menggunakan warna seperti kuning dan merah untuk tampil bergaya.

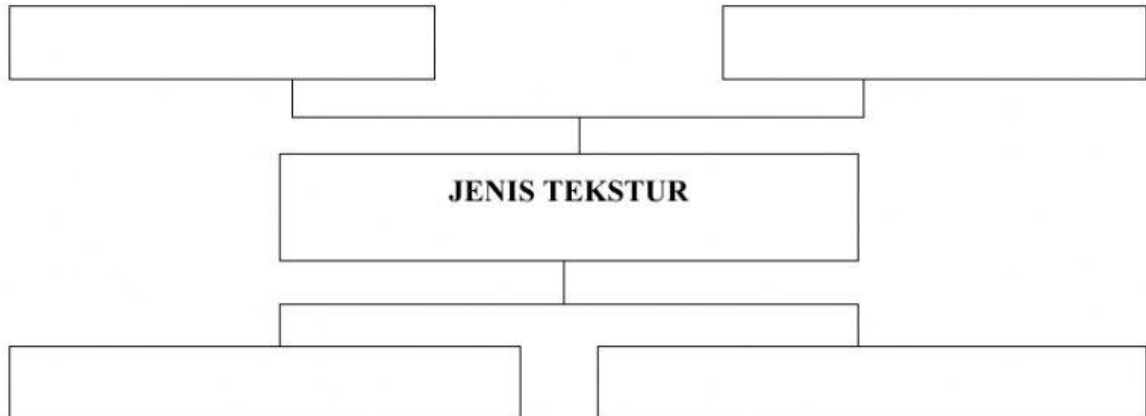
Si pemakai hendaklah memakai pakaian yang mempunyai garisan menegak

Si pemakai perlu memilih skirt atau palazzo yang labuh





7. Lengkapkan rajah berikut dengan menyenaraikan jenis tekstur dalam reka bentuk fesyen.



8. Berikut adalah elemen dalam reka bentuk fesyen..

<i>A</i>	<i>Bentuk</i>
<i>B</i>	<i>Tekstur</i>
<i>C</i>	<i>Warna</i>

Padankan pernyataan dengan menulis **A**, **B** dan **C** pada petak yang disediakan.

Permukaan sesuatu jalinan atau rasa pada fabrik atau bahan yang digunakan.

Garis luar bentuk badan atau struktur luar objek

Memberi kesan yang berbeza pada reka bentuk fesyen seperti panas, cerah, gelap dan sejuk.



9. Rajah menunjukkan reka bentuk fesyen sepasang pakaian.



Tandakan (/) jenis tekstur yang sesuai pada pakaian di sebelah dan tandakan (X) pada pernyataan yang tidak sesuai pada petak yang disediakan.

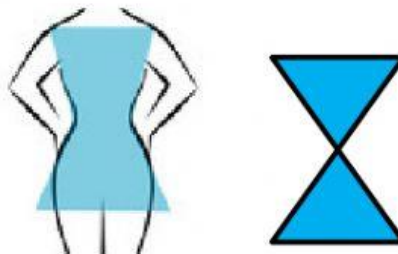
Lembut

Berkilat

Kasar

Legap

10. Rajah dibawah menunjukkan rupa bentuk badan



Tandakan (/) bagi pernyataan bentuk badan jam pasir (hour glass) yang betul dan tandakan (X) pada pernyataan yang salah pada petak yang disediakan.

Ukuran pinggul dan bahu yang seimbang serta pinggan yang tidak jelas

Ukuran pinggul yang seimbang dengan lebar bahu dan pinggang yang ketara

Ukuran bahu lebih besar daripada bahagian pinggul

*“Anggap semalam sebagai pengajaran untuk menjadi lebih baik.”*

**Disediakan oleh Cg. Norhidayah Ismail / SMK Tasek Permai**