








## ATIVIDADE MEDIDAS DE CAPACIDADE, COMPRIMENTO E MASSA

NOME: \_\_\_\_\_

Preencha cada medida de capacidade ao seu recipiente

			
<input type="text"/>	<input type="text"/>	<input type="text"/>	<input type="text"/>
			
<input type="text"/>	<input type="text"/>	<input type="text"/>	<input type="text"/>
<input type="text" value="500mL"/>	<input type="text" value="250mL"/>	<input type="text" value="80mL"/>	<input type="text" value="1000mL"/>
<input type="text" value="5000mL"/>	<input type="text" value="350mL"/>	<input type="text" value="180 mL"/>	<input type="text" value="100mL"/>

Todos os objetos estão cheios de água.  
Qual deles pode conter exatamente 1 litro de água?

- a) A caneca
- b) A jarra
- c) O garrafão
- d) O tambor



Marque o que compramos por kilo



Observe os objetos abaixo e ligue as medidas corretamente:



DÚZIA