




Nombre: _____

Fecha: _____


Tabla del 7



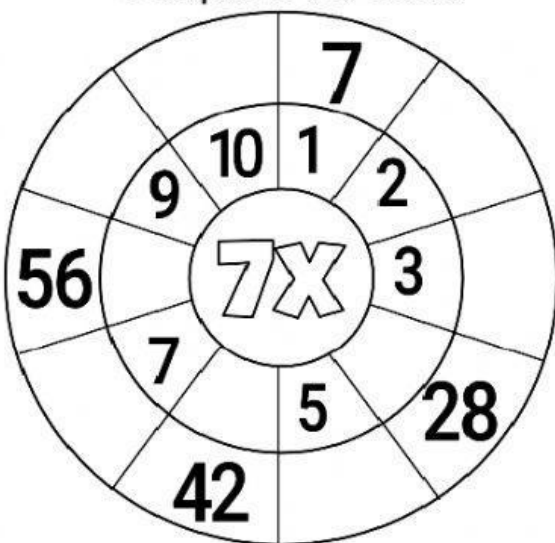
Colorea los múltiplos del 7.



Completa la secuencia de los múltiplos del 7.



Completa la rueda.



Resuelve las operaciones.

$$7 \times 2 = \underline{\quad}$$

$$7 \times 4 = \underline{\quad}$$

$$7 \times 3 = \underline{\quad}$$

$$7 \times 5 = \underline{\quad}$$

$$7 \times 6 = \underline{\quad}$$

$$7 \times 7 = \underline{\quad}$$

$$7 \times 9 = \underline{\quad}$$

$$7 \times 8 = \underline{\quad}$$

$$7 \times 1 = \underline{\quad}$$

$$7 \times 10 = \underline{\quad}$$