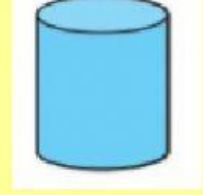




ΟΝΟΜΑ ΕΠΙΘΕΤΟ :

- 1) Αντιστοιχίζω με το ποντίκι μου την κάθε εικόνα με το όνομά της.
Προσπαθώ να θυμηθώ ποια είναι τα γεωμετρικά στερεά και ποια τα
γεωμετρικά σχήματα.



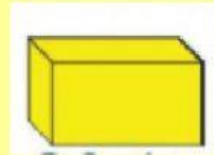

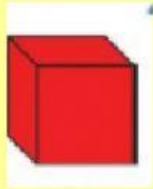
τετράγωνο

σφαίρα

κύλινδρος

κώνος

κύκλος



ορθογώνιο

κύβος

τρίγωνο

πυραμίδα

ορθογώνιο

στερεό

ΕΠΙΜΕΛΕΙΑ : ΚΑΜΑΡΙΑΝΑΚΗ ΜΑΡΙΑ