

.....

....., .....de .....de .....

Diretor(a):.....

Professor(a):.....

Estudante: .....º ano "....."

### Atividade de Matemática

- 1) Mariana quer repartir igualmente 14 balas entre seus amigos Túlio e Éllen. Desenhe as balas que cada amigo receberá:







Éllen	Túlio
	

- 2) Veja a quantia em dinheiro que Pedro tem:

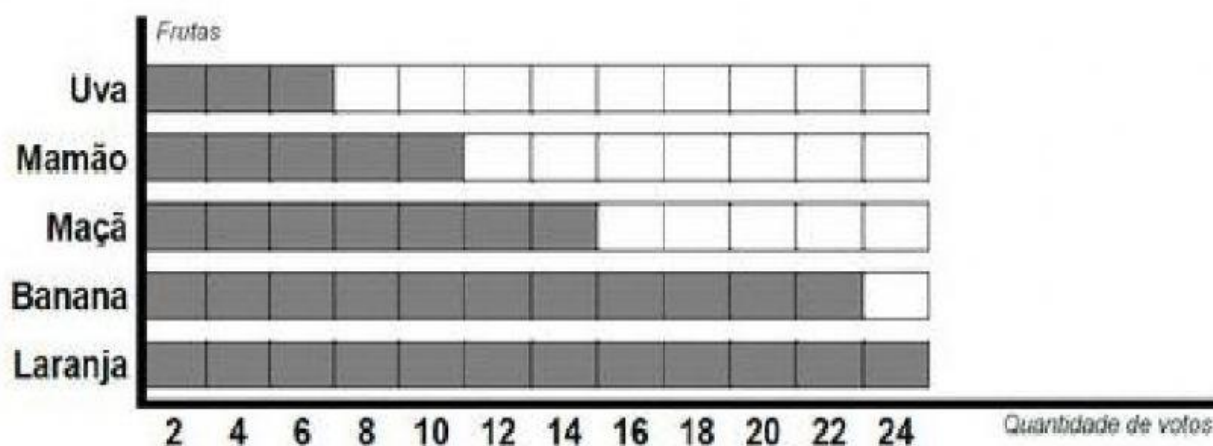


Ele vai dividir esta quantia igualmente entre quatro amigos.

- Desenhe a quantia que cada um deles vai receber:

- 3) Observe o gráfico que mostra o resultado de uma pesquisa feita com alunos do 3º Ano, de nossa escola, para descobrir qual é a fruta preferida deles. Depois, marque a resposta certa:



- De acordo com este gráfico, a fruta preferida dos alunos do 3º Ano é:  
☐ laranja.                      ☐ banana.                      ☐ uva.                      ☐ mamão.
- A fruta menos votada foi:  
☐ banana.                      ☐ laranja.                      ☐ mamão.                      ☐ uva.
- Juntas, quantos votos tiveram as frutas *Mamão e Maçã*?  
☐ 10 votos.                      ☐ 14 votos.                      ☐ 24 votos.                      ☐ 28 votos.

4) O avô de Joseana deu dinheiro para ela poder comprar acessórios para usar em seus cabelos. Veja quanto ela ganhou:



Quanto reais Joseana ganhou de seu avô? \_\_\_\_\_

Joseana gosta de tiaras de tecidos. Na lojinha que ela foi, cada tiara custa 6 reais. Joseana comprou quatro tiaras. Quanto ela gastou?

\_\_\_\_\_ + \_\_\_\_\_ + \_\_\_\_\_ + \_\_\_\_\_ = \_\_\_\_\_ reais

ou

\_\_\_\_\_ x \_\_\_\_\_ = \_\_\_\_\_ reais