

ΓΝΩΡΙΖΩ ΚΑΛΥΤΕΡΑ ΤΑ ΓΕΩΜΕΤΡΙΚΑ ΣΤΕΡΕΑ

1. Με ποιο γεωμετρικό στερεό μοιάζει κάθε τρόφιμο;
Σύρω τη σωστή λέξη κάτω από την εικόνα.


κύβος

κύλινδρος

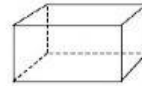
πυραμίδα

σφαίρα

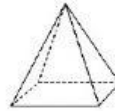
ορθογώνιο παραλληλεπίπεδο



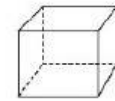
2. Ένωσε τα γεωμετρικά στερεά με το όνομά τους.



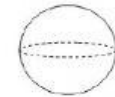
κύλινδρος



ορθογώνιο
παραλληλεπίπεδο



πυραμίδα



κύβος



σφαίρα