



# EXERCÍCIOS DE GEOGRAFIA

Professora Silvia Alvarenga – 8º Ano

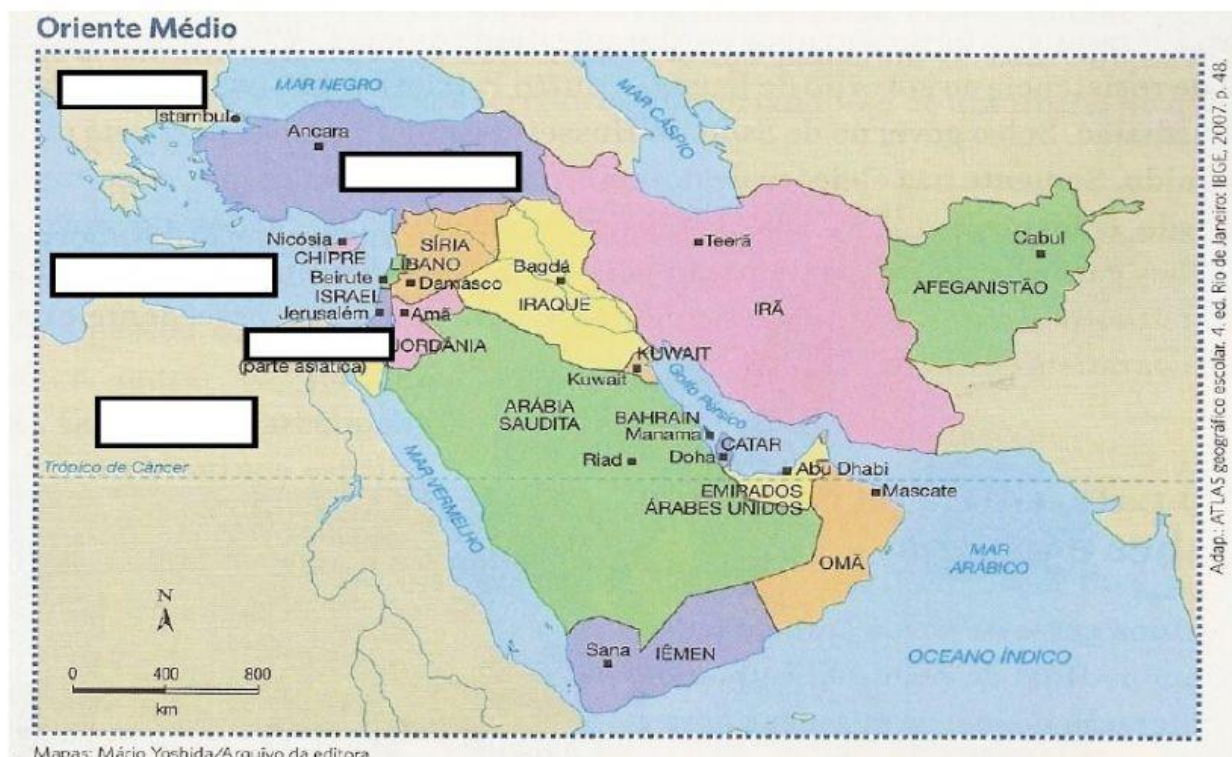
Conteúdo: ORIENTE MÉDIO – Aspectos físicos e humanos

Assista o Vídeo abaixo  
para responder as  
questões sobre os  
**ASPECTOS NATURAIS**  
DO ORIENTE MÉDIO



Preencha o mapa arrastando as palavras em destaque do texto

O Oriente Médio é a porção sudoeste do continente asiático. É uma área onde a Ásia se encontra com a **ÁFRICA** e com a Europa. Dois mares, o **MEDITERRÂNEO** e o Vermelho separam a África da Ásia. Entre eles, porém, existe uma faixa de terra, situada no território do Egito, que liga esses dois continentes e onde foi construído o canal de Suez ligando os mares mediterrâneo e Vermelho. Na **EUROPA**, os montes Urais, o rio Ural e o mar Cáspio costumam ser considerados as linha divisórias entre os continentes asiático e europeu. O **EGITO** é o único país que possui terras na África e no Oriente Médio, e a **TURQUIA** é o país que tem parte do seu território no Oriente Médio e parte na Europa. Portanto, o Oriente Médio corresponde à porção sul-ocidental, ou sudoeste, da Ásia, constituindo um verdadeiro ponto de contato desse continente com a Europa e com a África.



Identifique os tipos climáticos encontrados no Oriente Médio arrastando as caixas de texto e imagens em direção as características correspondentes:

DESÉRTICO (ÁRIDO)

FRIO DE MONTANHA

SEMIÁRIDO

MEDITERRÂNEO



CLIMA	EXEMPLO	CARACTERÍSTICAS
		<p>Baixas temperaturas durante todo o ano.</p> <p>O regime de chuvas são influenciados diretamente pelo relevo.</p> <p>É o único clima a ser registrado em três zonas diferentes, a quente, temperada e fria.</p>
		<p>Presença de duas estações do ano bem definidas: um verão quente e seco e um inverno com temperaturas mais baixas e chuvoso. É encontrado nas regiões próximas ao Mar Mediterrâneo, no Oriente Médio está presente na costa.</p>
		<p>É marcado pela baixa umidade, elevada amplitude térmica e temperaturas elevadíssimas durante o dia. Ocorre em boa parte do Oriente Médio com destaque para a Península Arábica.</p>
		<p>É um clima de temperaturas elevadas e precipitações escassas e irregulares, com um índice pluviométrico de 10 a 500 mm anuais, acarretando uma baixa umidade do ar. A vegetação recebe diversos nomes, sendo chamada estepe na Europa e Ásia.</p>



Complete o texto abaixo arrastando as caixas de texto para as lacunas correspondentes:

O Oriente Médio é pobre em \_\_\_\_\_, isso devido à adversidade climática, no entanto, é possível encontrar em lugares mais \_\_\_\_\_ plantas do tipo \_\_\_\_\_, estepes em áreas de clima árido e nas regiões mais úmidas de característica mediterrânea são identificadas vegetações \_\_\_\_\_, campos e pradarias em decorrência da influência do clima \_\_\_\_\_.

SECOS

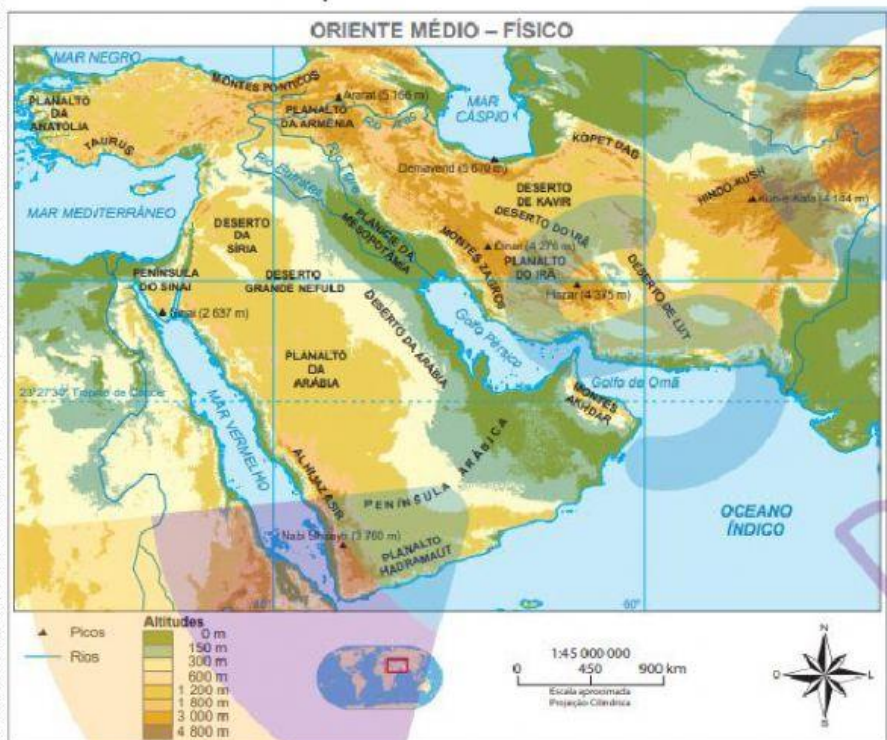
TEMPERADO

ARBUSTIVA

XERÓFILAS

VEGETAÇÃO

Observe o mapa:



Podemos dizer que o relevo predominante no Oriente Médio é:

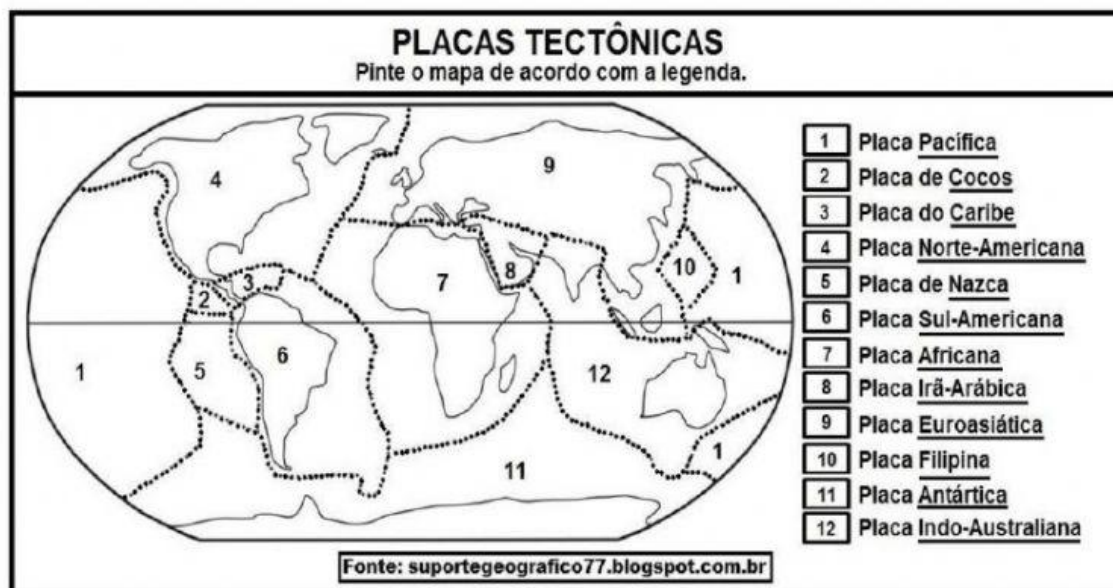
Planícies

Depressões

Planaltos

Montanhas

Observe o mapa e localize duas das três placas tectônicas responsáveis pela instabilidade geológica do Oriente Médio.



➤ Encontre as palavras grifadas no caça palavras.

Á T N O Û A N A I L A R T S U A O D N I  
 A N O R T E A M E R I C A N A Á Ü Ê R Ç  
 Â A H B V Ô Ü Y W H X I Ã D I A K Õ Ü Ê  
 A U Ô S K S Á Q B P J À É Q Ç V O C E U  
 I C K R K Ú X G Á K R N Ü N A C E C E J  
 R K I Ú N Ò S O C O C M A C A P À H Z L  
 Ã Q Ê T Ô R Ü Ü Ç I X Ô U R A Y Ç Õ A D  
 A Ç I Ó R L R L Ã Ã Z D I C Í Ü Ô U Y Õ  
 R Ê Õ K T Á Ü X S Y L B Í A V Ê U A Ê E  
 Á V Ã F Õ A T M E Â E F U N F G N U Õ U  
 B V Ú W Ê X S N Ê O I Ü Ü A V I R T M Ó  
 I A F R I C A N A C V Ú Ó C P É L Ê Z Q  
 C D F Q E U R O A S I Á T I C A V A M U  
 A Õ A Ç Ó U Ü Ç Ó L B Ü L R J R Ó Ú N N  
 Ê S E Ç J U R Ô À X K I Ó E D X Á A E À  
 À É P Ü T C D Ô C F F Ü Ê M A R Z P V I  
 N F K H P Ü R A Á W A Õ L A V C Q Ó H S  
 Ò P T J I D V A Ò Q G C C L A L J Z É H  
 E L B I F M D M I T I C Q U Ô Ú É Ç Ü E  
 R É Á À Â N U B R Á J W S S Ô L V Ç Ã R



Os principais rios da região do Oriente médio são: são o \_\_\_\_\_ e o \_\_\_\_\_, localizados na região conhecida como Crescente Fértil. Além deles, merecem destaque o rio Jordão e o rio Nilo.

Assista o Vídeo abaixo  
para responder as  
questões sobre os  
**ASPECTOS NATURAIS  
DO ORIENTE MÉDIO**



Observe o mapa:



No mapa, está destacada a região habitada

pelos \_\_\_\_\_,

que buscam construir um estado nacional.

Arraste para a lacuna alternativa que completa

corretamente a frase.

**CURDOS**

**TURCAS**

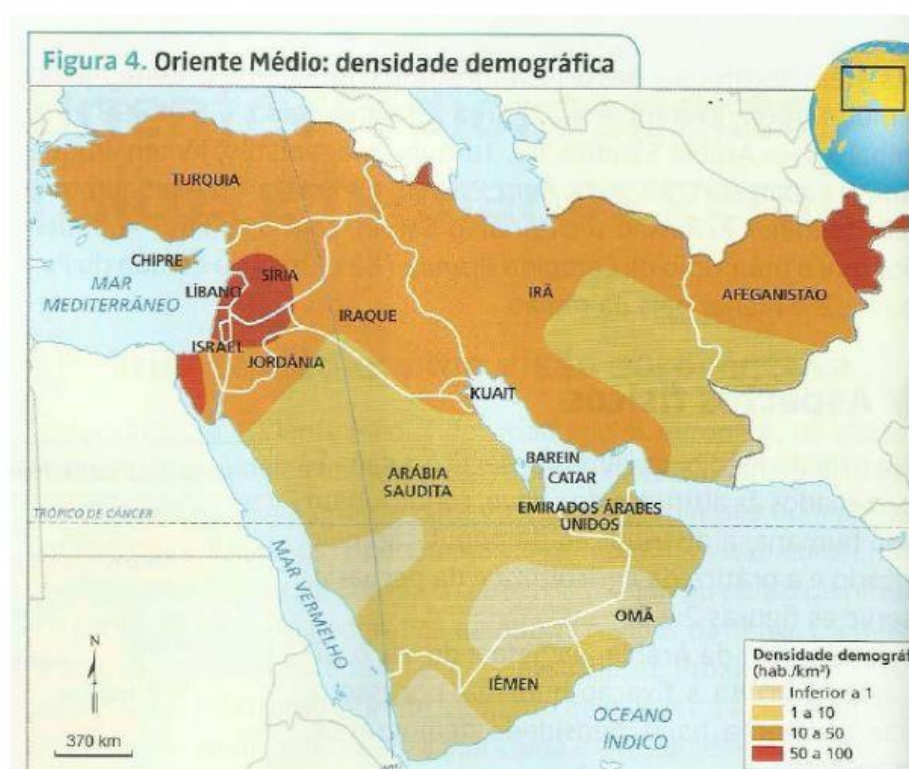
**PALESTINOS**

A cidade de \_\_\_ é considerada por três religiões (judaísmo, islamismo e cristianismo) a "Cidade Santa". Para os Judeus, o Muro das Lamentações, parte do Segundo Templo, é o local mais sagrado de todos. Acima dele está o Domo da Rocha, o terceiro local mais importante no islamismo, de onde Maomé subiu aos céus. A poucos quarteirões dali, a Igreja do Santo Sepulcro assinala o local tradicional da crucificação, do enterro e da ressurreição de Jesus.

O texto acima refere-se a qual cidade?

---

Observe o mapa



Qual é o fator que mais influencia na distribuição da população no Oriente Médio?

**Religião**

**Clima**

**Industrialização**

Qual é a etnia predominante no Oriente Médio?

---

Sobre os refugiados, assinale um X nas opções **CORRETAS**:

Todos os imigrantes são considerados refugiados, uma vez que o motivo de seus deslocamentos é o mesmo, ou seja, a violação dos direitos humanos.

Como resultado de graves conflitos, como o que ocorre na Síria, milhares de pessoas têm fugido do seu país em busca de um lugar seguro para viver. No momento, o Mar Mediterrâneo é o cenário em que se desenrolam as cenas mais dramáticas dessa crise humanitária, considerada uma das piores desde a Segunda Guerra Mundial.

O refugiado, este se vê obrigado a fugir de seu país por sofrer perseguição de qualquer natureza e temer por sua integridade física e pela própria vida.

O migrante muda-se para outro país por escolha pessoal, e não por sofrer ameaça direta, sua intenção é melhorar de vida e não fugir de perigos iminentes. Mesmo que se trate de migrantes em situação de extrema pobreza, eles não são definidos como refugiados, o status de refugiado está estreitamente ligado a situações de violência.

Considere as características abaixo e marque um X na opção **CORRETA**:

- País que mais recebeu refugiados sírios nos últimos anos (cerca de 700 mil em 2017).
- Localiza-se em dois continentes, a maior parte na Ásia, e a menor na Europa.
- Sua capital é Ancara mas tem a cidade de Istambul como uma das mais importantes.
- Abriga, em seu território, uma boa parte do povo curdo.

Estamos falando sobre:

**Síria**

**Israel**

**Turquia**

**Arábia Saudita**



Ligue as características a religião correspondente:

Atualmente a segunda maior religião do mundo. Seu surgimento remonta ao século VII e deu-se por meio das pregações realizadas por Muhammad, seu profeta.

**CRISTIANISMO**

Religião monoteísta que possui o menor número de adeptos no mundo, cerca de 12 a 15 milhões. Essa religião originou-se por volta do século XVIII a.C.

**ISLAMISMO**

Maior religião do mundo, sendo predominante na Europa, América e Oceania. A religião se iniciou através dos ensinamentos de Jesus de Nazaré, considerado o salvador da humanidade.

**JUDAÍSMO**





Os exercícios acabaram,  
tenho certeza que você se  
saiu muito bem! Para  
concluir clique em **FINISH** e  
siga as instruções abaixo

Clique na opção para envio por e-mail!

What do you want to do?

 **Check my answers**

 **Email my answers to my teacher**

Enter your full name:

Group/level:

School subject:

Enter your teacher's email or key code:

NA HORA DO ENVIO  
PREENCHEER DA SEGUINTE  
FORMA:

1º: SEU NOME

2º SUA TURMA

3º DISCIPLINA

4º EMAIL DA PROFESSORA:

[profsilviaalvarenga@gmail.com](mailto:profsilviaalvarenga@gmail.com)

Depois é só clicar em **Send**