

Unidad Educativa Particular Bilingüe
Interamericano

AÑO LECTIVO 2020- 2021
NÚMEROS DECIMALES A FRACCIONES

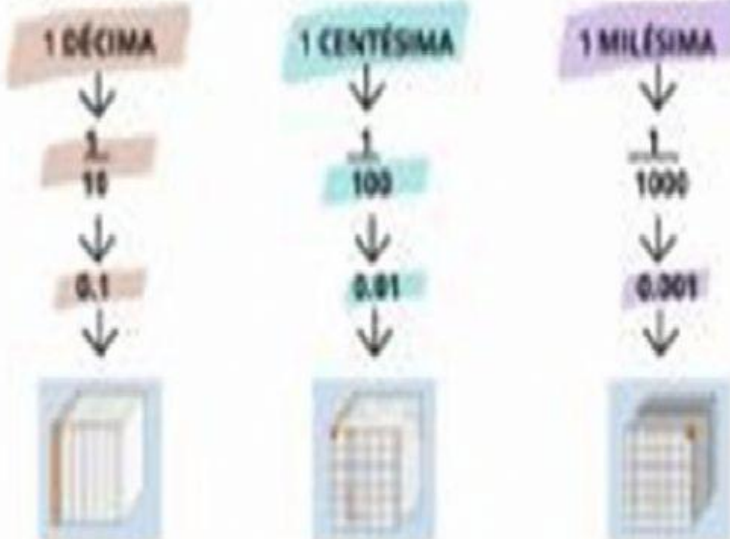
NOMBRE:

5TO: EGB:

DECIMALES

Los decimales se pueden expresar en forma de fracción.

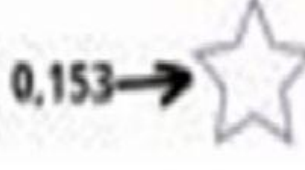



Fíjate:



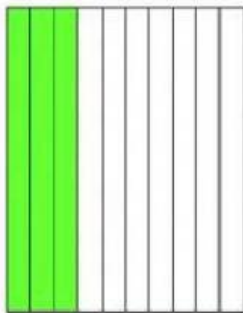
★ ESCRIBE EN FORMA DE DECIMAL

$\frac{7}{10} \rightarrow$	$\frac{5}{10} \rightarrow$	$\frac{27}{100} \rightarrow$
$\frac{93}{100} \rightarrow$	$\frac{2}{10} \rightarrow$	$\frac{2}{10} \rightarrow$
$\frac{52}{100} \rightarrow$	$\frac{27}{100} \rightarrow$	$\frac{566}{1000} \rightarrow$

★ ESCRIBE EN FORMA DE FRACCIÓN:

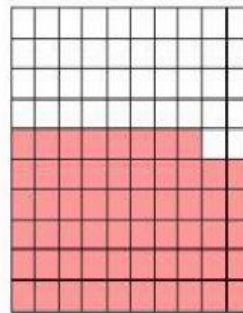


Escribe como fracción y como número decimal la parte coloreada de cada dibujo, e indica cómo se lee.




$$\frac{\square}{\square} = \square$$

Se lee _____.




$$\frac{\square}{\square} = \square$$

Se lee _____.



$$\frac{\square}{\square} = \square$$

Se lee _____.



$$\frac{\square}{\square} = \square$$

Se lee _____.