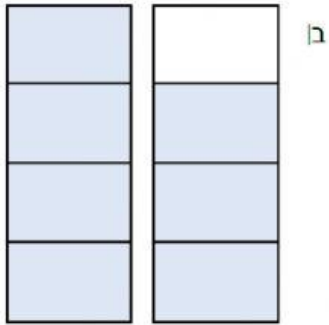


שם: \_\_\_\_\_

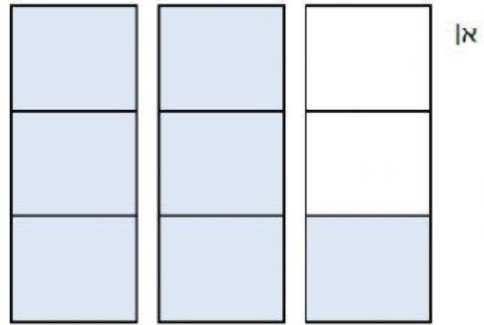
# משבר גדול משלם למספר מעורב

לכל ציור כתבו שבר מתאים ומספר מעורב מתאים.

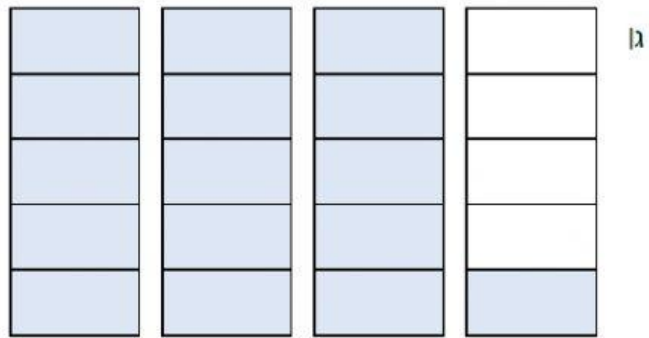
1



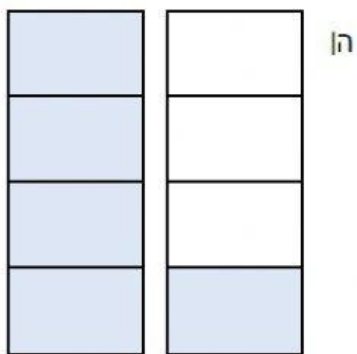
$$\square - \square = \square$$



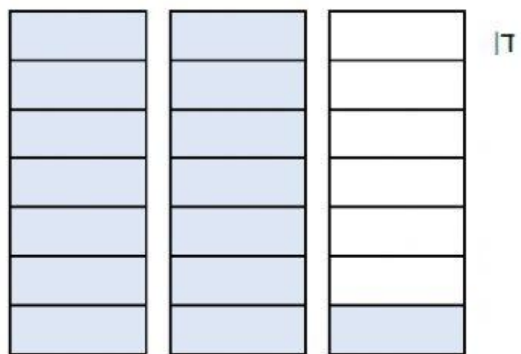
$$\square - \square = \square$$



$$\square - \square = \square$$



$$\square - \square = \square$$



$$\square - \square = \square$$

2 מתחו קו בין כל שני מספרים שווים.

$\frac{11}{8}$  •

$\frac{37}{10}$  •

$\frac{22}{5}$  •

$\frac{14}{8}$  •

$\frac{13}{3}$  •

$\frac{15}{3}$  •

•  $3\frac{7}{10}$

•  $1\frac{6}{8}$

•  $1\frac{3}{8}$

•  $4\frac{2}{5}$

• 5

•  $4\frac{1}{3}$

3 מצאו לכל שבר את המספר המעורב או המספר השלם השווה לו.

א)  $\frac{17}{5} = \frac{\square}{\square}$

ד)  $\frac{13}{6} = \frac{\square}{\square}$

ז)  $\frac{9}{5} = \frac{\square}{\square}$

ב)  $\frac{24}{8} = \square$

ה)  $\frac{14}{7} = \square$

ח)  $\frac{20}{9} = \frac{\square}{\square}$

ג)  $\frac{15}{9} = \frac{\square}{\square}$

ו)  $\frac{20}{7} = \frac{\square}{\square}$

ט)  $\frac{14}{8} = \frac{\square}{\square}$

4 גרו את השברים הבאים למקום המתאים על ישר המספרים:

