



Escola Estadual Antônio de Azevedo  
Professoras: Elba e Raíza Turmas: 4º ano "A" e "B"



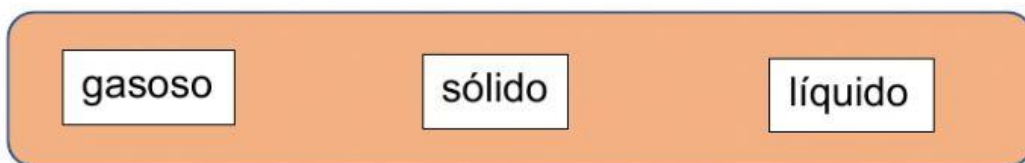
Aluno(a): \_\_\_\_\_

Atividade de Ciências do dia 17/11/2020

1- Marque um X nas afirmações corretas em relação a água:

- ☐ A água para ser consumida, ela deve está suja.
- ☐ A água que pode ser consumida é a água potável.
- ☐ Podemos encontrar a água na natureza em três estados físicos.
- ☐ A água não pode ser encontrada na natureza.

2- Arraste os estados físicos da água para a imagem correspondente:



3- Ligue corretamente:

