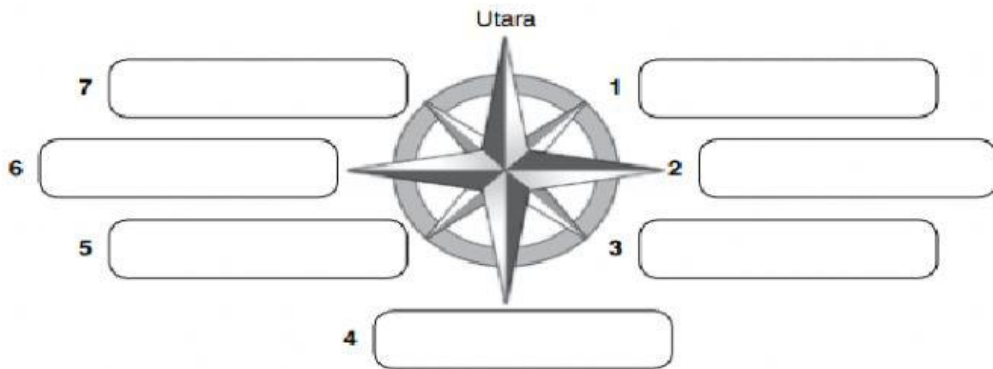


Arahan: Jawab semua soalan.

1.1 Arah Mata Angin

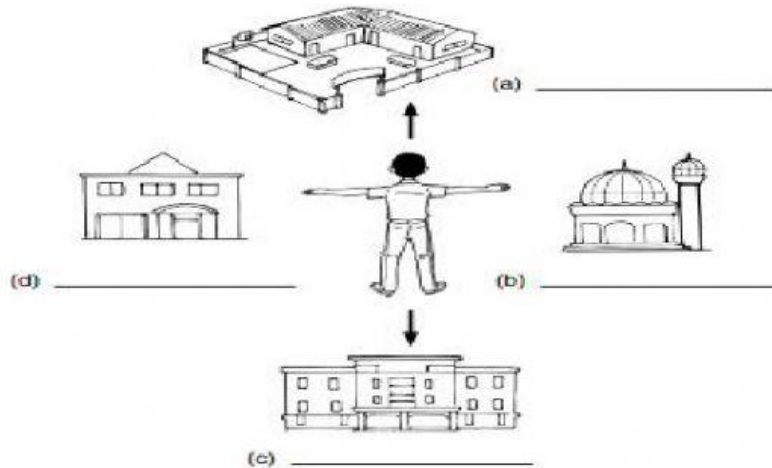
Lengkapkan arah mata angin berikut.

TP 1



2 Berdasarkan rajah di bawah, Khairul menghadap matahari terbit. Lengkapkan arah mata angin yang betul bagi tempat-tempat berikut.

TP 2



1.3 Cara Menentukan Arah Mata Angin Menggunakan Kompas

1 Nyatakan lapan arah mata angin berdasarkan kompas di bawah.

TP 3

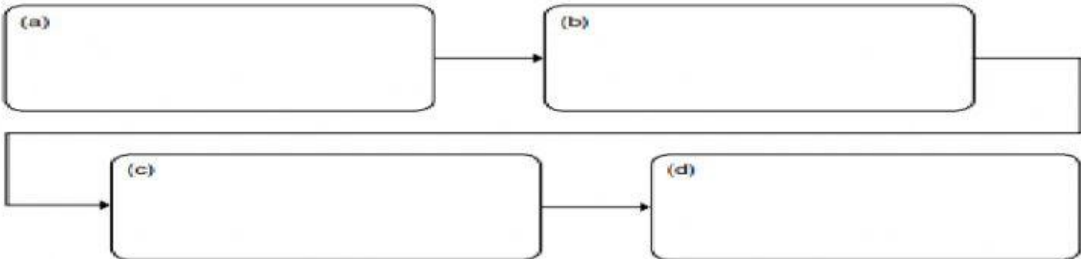


Arah mata angin	
A	
B	
C	
D	
E	
F	
G	
H	

2 Susun langkah mengorientasikan kompas yang betul daripada maklumat yang diberi dalam carta alir di bawah.

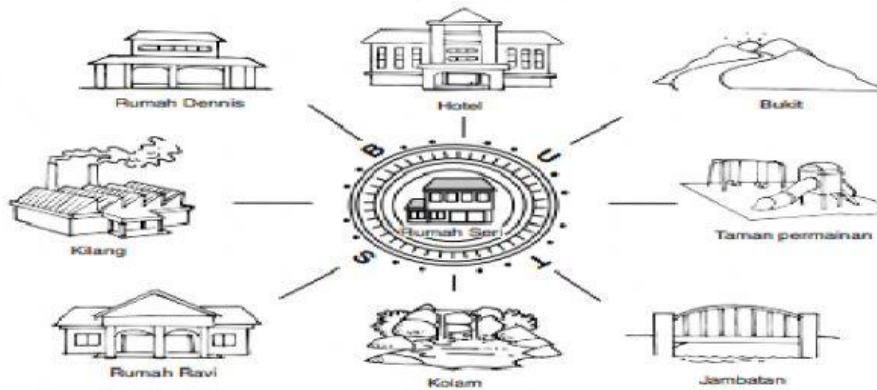
EP 5

Pusingkan kompas perlahan-lahan sehingga jarum kompas menunjuk ke arah utara.
 Baca arah objek seperti yang dicatat pada permukaan kompas.
 Letakkan kompas di atas permukaan yang rata.
 Pilih satu lokasi sebagai titik rujukan.



3 Berdasarkan kompas, nyatakan arah mata angin setiap tempat di bawah dari rumah Seri.

EP 4



Arah dari rumah Seri	
(a)	Hotel
(b)	Bukit
(c)	Taman permainan
(d)	Jambatan
(e)	Kolam
(f)	Rumah Ravi
(g)	Kilang
(h)	Rumah Dennis