

ORGAN PADA HEWAN

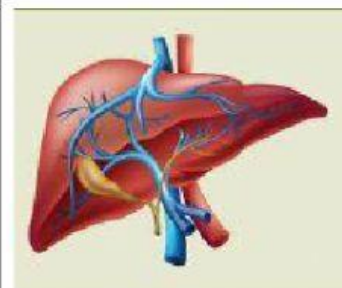
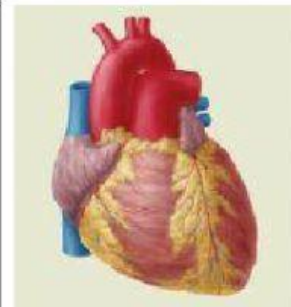
Nama Lengkap :

Kelas :

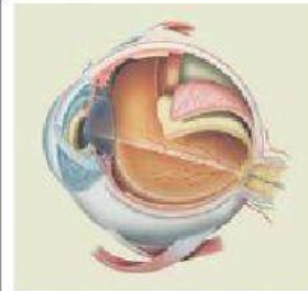
Silakan kerjakan Latihan-latihan soal berikut secara mandiri

1. Tarik Gambar yang benar pada kolom sesuai keterangannya

No.	Struktur dan fungsi organ	Gambar
1.	Berfungsi sebagai tempat menawarkan racun yang terbentuk dalam tubuh. Organ ini antara lain terbentuk dari jaringan otot, jaringan pengikat, dan jaringan saraf.	
2.	Memiliki fungsi untuk memompa darah supaya beredar ke seluruh tubuh. Organ ini antara lain terbentuk dari jaringan otot jantung, jaringan pengikat, dan jaringan saraf.	
3.	Organ ekskresi dalam vertebrata yang berbentuk mirip kacang. Sebagai bagian dari sistem urin, ginjal berfungsi menyaring kotoran (terutama urea) dari darah dan membuangnya bersama dengan air dalam bentuk urin.	

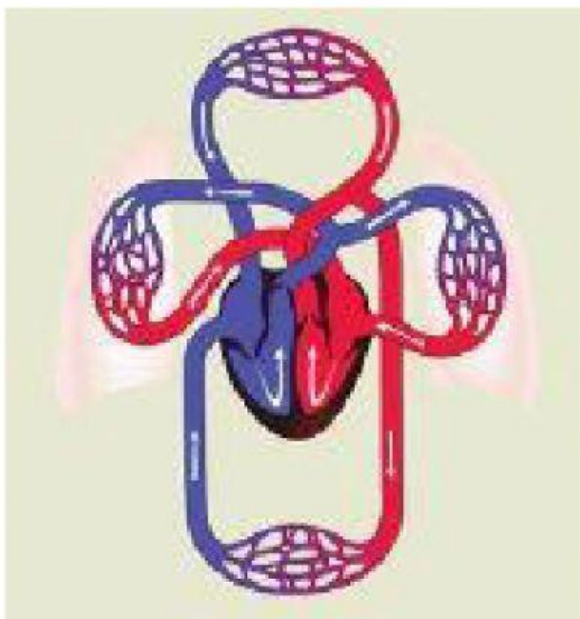


No.	Struktur dan fungsi organ	Gambar
4.	Organ ini berfungsi untuk menghirup udara pernapasan, menyaring udara, dan menghangatkan udara pernapasan.	
5.	Organ ini berfungsi untuk melihat. Organ ini antara lain terbentuk dari jaringan otot dan jaringan saraf.	



2. Tarik garis sesuai dengan pasangannya

a.



Jantung

Pembuluh darah Vena

Pembuluh darah kapiler

Pembuluh darah arteri
(nadi)

b.



Paru-paru

Tenggorokan

Trakea

Bronkhus

c.

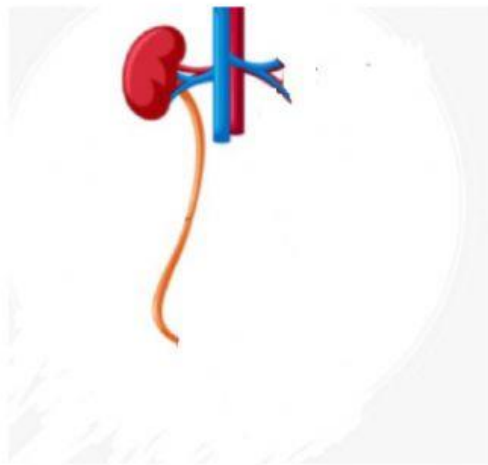


Otot

tulang

3. Urutkan gambar organ-organ tubuh manusia berikut menjadi suatu sistem organ yang sesuai dengan konsep sistem organ.

a.



Kantong kemih



Ureter



Ginjal



b.

