



Problemas de reparto

Mariela tiene 9 stickers, y quiere poner en cada bolsa la misma cantidad, ¿cuántos stickers debe poner en cada bolsa? Arrastra los stickers en cada bolsa para descubrir la respuesta.




Rta:

Estos hermanos quieren repartir la misma cantidad de caramelos para cada uno. Si tienen 14 caramelos, ¿cuántos le toca a cada uno? Arrastra los caramelos al lado de cada niño para descubrir la respuesta.



Rta:

Fabián quiere repartir estas galletitas en los 4 frascos, ¿cuántas debe poner en cada uno? Arrastrá las galletitas a cada frasco para descubrir la respuesta.



Rta:

¿Cuántas porciones le toca a cada una, si las reparten en partes iguales? Arrastrá las porciones a cada niña para descubrir la respuesta.



Rta: