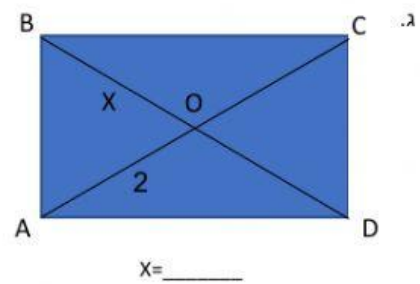
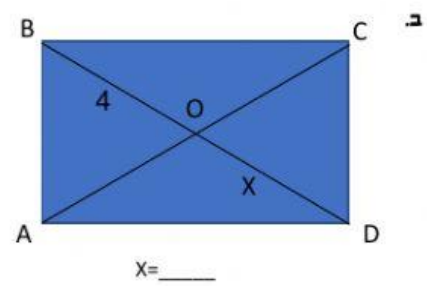
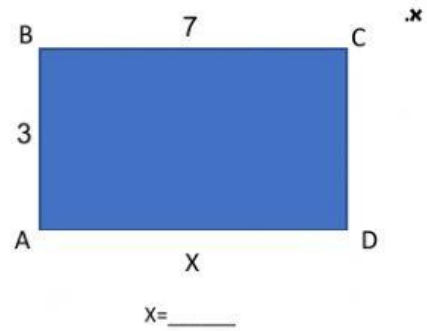
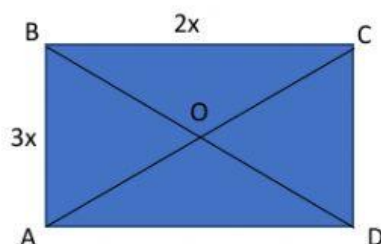
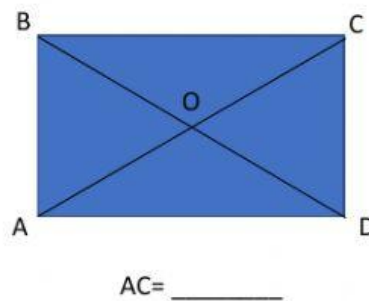


בוזן- הזלבו

1. לפניך מלבנים. כתבי למה שווה x בכל אחד מהסעיפים הבאים:



2. לפניך מלבן. כתבי מה הגודל של הקטע AC אם ידוע שהקטע $BO=5$.



3. כתבי ביטוי אלגברי להיקף המלבן שלפניך:

4. חשבי את השטח והיקף של כל אחת מהצורות הבאות.

