

LEMBAR KERJA PESERTA DIDIK

KOMPETENSI DASAR : MENGANALISIS PETA GEOLOGI GEOLOGI
TUJUAN PEMBELAJARAN : PESERTA DIDIK MENJELASKAN DEFINISI PETA GEOLOGI
PESERTA DIDIK MENGANALISIS PEMETAAN GEOLOGI
PESERTA DIDIK MENGURAIKAN METODA PEMETAAN GEOLOGI
PESERTA DIDIK MENGURAIKAN KEDUDUKAN LAPISAN DAN TOPOGRAFI
PESERTA DIDIK MERANCANG PETA GEOLOGI DAN PENAMPANG GEOLOGI

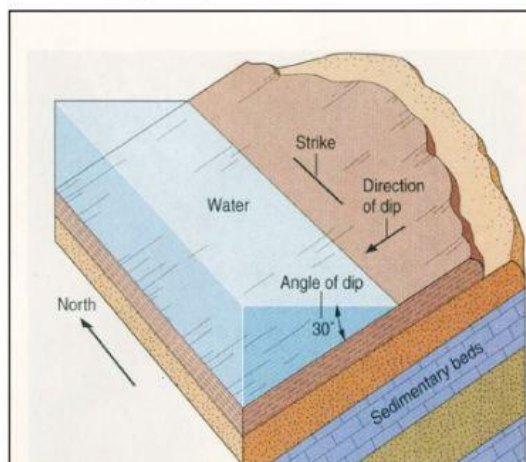
Nama :
NIS :
Kelas :

LANGKAH KEGIATAN

1. Dalam kegiatan pembelajaran ini, peserta didik diharapkan :
 - o Silahkan menyimak pemberian materi melalui melalui video pembelajaran berikut


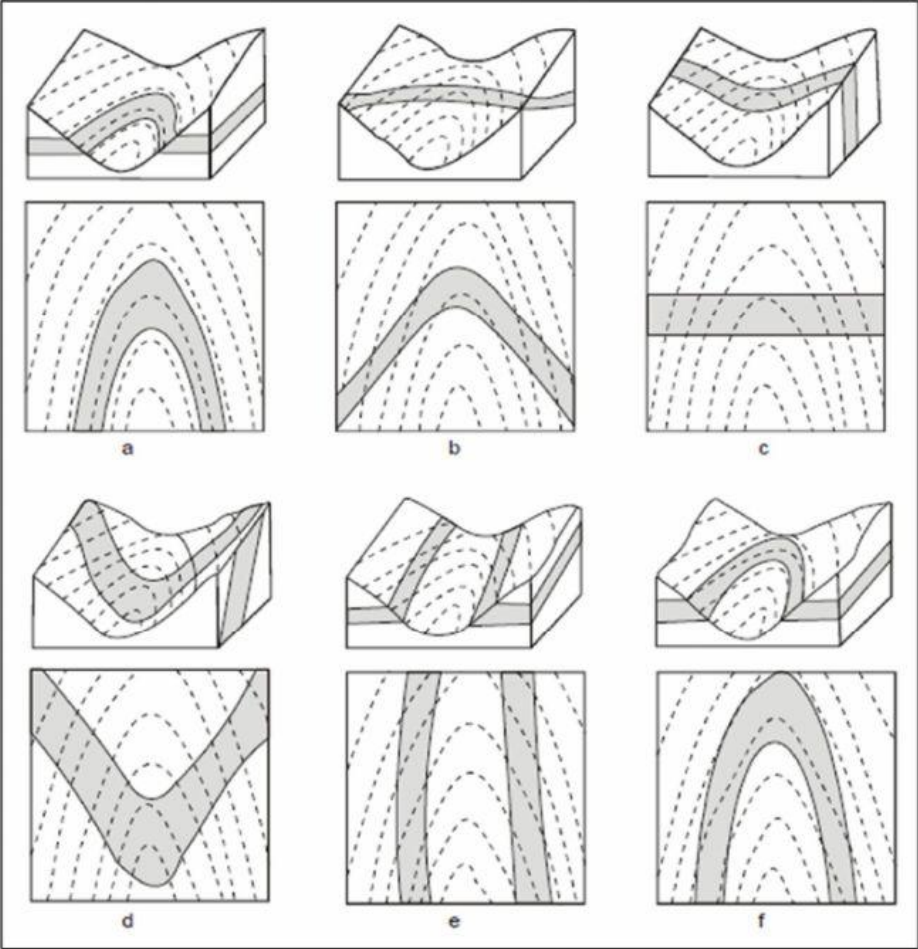


- o Selain menyimak materi dari video pembelajaran, materi juga dapat dibaca pada diktat yang sudah ditautkan di google classroom
2. Mempelajari dan merefleksikan pembelajaran yang sudah didapat
 3. Jawablah soal-soal berikut :
 - A. Pada gambar berikut adalah unsur-unsur struktur perlapisan batuan, dari gambar dibawah ini buatlah analisa tentang struktur perlapisan batuan tersebut





B. Buatlah analisa dari kenampakan pola singkapan menurut hukum V berikut



C. Lengkapilah penamaan dari simbol struktur geologi dan litologi batuan dari gambar dibawah ini

