

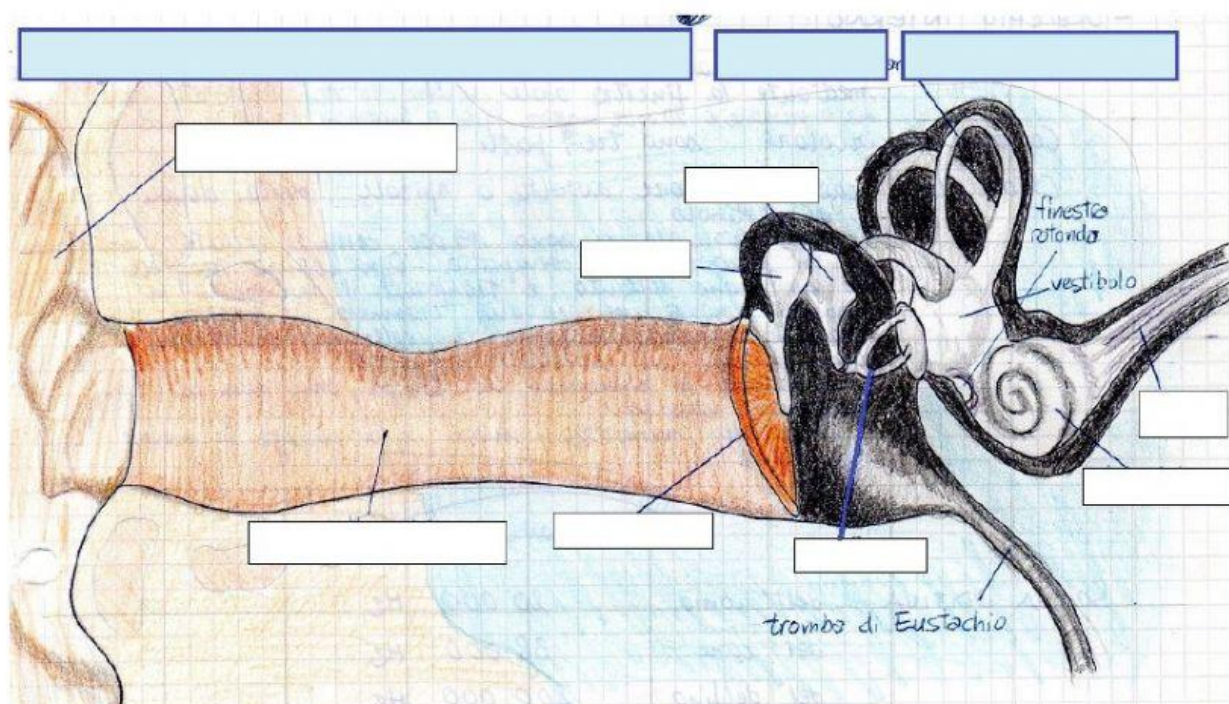
NOME

CLASSE

DATA

VERIFICA DI MUSICA**1. L'ELEMENTO DA CUI HA ORIGINE IL SUONO SI CHIAMA:**

- A. ☐ SORGENTE SONORA
 B. ☐ MEZZO PROPAGANTE

PUNTI /1**2. INDICA, SCEGLIENDOLE NELL'ELENCO IN FONDO, DA QUALI PARTI È COMPOSTO UN ORECCHIO.**

ORECCHIO ESTERNO

ORECCHIO INTERNO

ORECCHIO
MEDIO

STAFFA

COCLEA

CONDOTTO Uditivo

MARTELLO

INCUDINE

TIMPANO

PADIGLIONE AURICOLARE

NERVO
ACUSTICO**PUNTI /3****3. COME SI CHIAMA IL FENOMENO CHE DÀ LA POSSIBILITÀ DI RIASCOLTARE UN SUONO?**

- A. ☐ ECO
 B. ☐ MEZZO PROPAGANTE
 C. ☐ COMPRESSIONE
 D. ☐ DISTORSIONE

PUNTI /1

4. COLLEGA IN MODO CORRETTO LE SEGUENTI DEFINIZIONI.

1. ALTEZZA ✕ **A.** DEFINISCE IL VOLUME DI UN SUONO
(PIANO E FORTE).
2. INTENSITÀ ✕ **B.** RIGUARDA LA "PERSONALITÀ" DI UN SUONO.
3. DURATA ✕ **C.** DISTINGUE I SUONI IN ACUTI E GRAVI.
4. TIMBRO ✕ **D.** INDICA QUANTO "DURA" UN SUONO.

PUNTI /4

5. INDICA SE LE SEGUENTI AFFERMAZIONI SONO VERE O FALSE.	V	F
1. IL SUONO SI PROPAGA SOLO ATTRAVERSO L'ARIA.		
2. NELL'ARIA SI DIFFONDE ALLA VELOCITÀ DI 340 M AL SECONDO.		
3. IL SUONO GENERA NELL'ARIA UNA COMPRESSIONE E UNA RAREFAZIONE.		
4. LA COMPRESSIONE E LA RAREFAZIONE DELL'ARIA SONO VISIBILI.		

PUNTI /4

6. CON QUALE MISURA SI INDICA L'INTENSITÀ?

- A.** ☐ HZ **B.** ☐ DECIBEL

PUNTI /1

7. INDICA I SIMBOLI CHE VENGONO UTILIZZATI NEL LINGUAGGIO MUSICALE PER INDICARE L'INTENSITÀ.

- A.** *pp p mp mf f ff*
- B.** 
- C.** 

PUNTI /1

8. INDICA I SIMBOLI CHE VENGONO UTILIZZATI NEL LINGUAGGIO MUSICALE PER INDICARE LA DURATA.

A. *pp p mp mf f ff*

B. 

C. 

PUNTI /1

9. COME VIENE INDICATA LA DURATA DEI SUONI NEL LINGUAGGIO MUSICALE?

A. ☐ DECIBEL

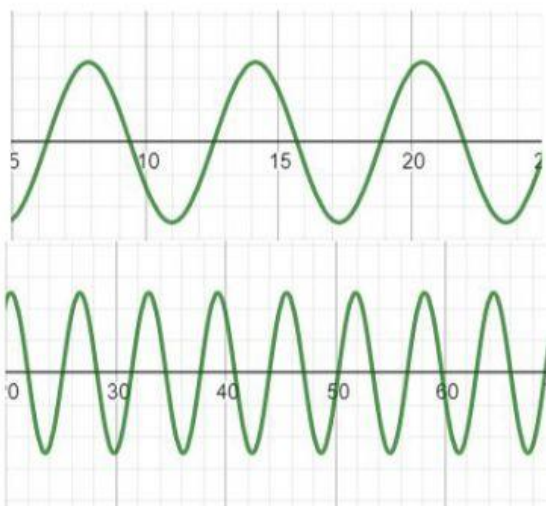
B. ☐ HZ

C. ☐ FIGURE DI DURATA

D. ☐ ULTRASUONI

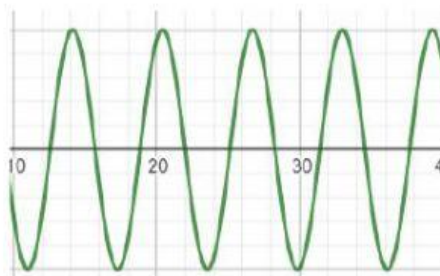
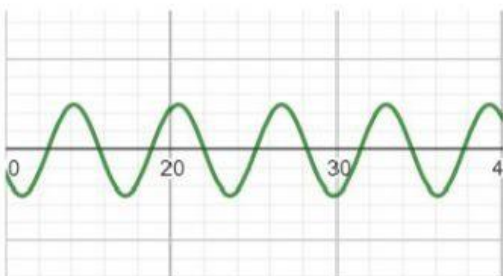
PUNTI /1

10. INDICA QUALE SINUSOIDE RAPPRESENTA UN SUONO ACUTO E QUALE UN SUONO GRAVE



PUNTI /1

11. INDICA QUALE SINUSOIDE RAPPRESENTA UN SUONO FORTE E QUALE UN SUONO DEBOLE:



PUNTI /1