

בית ספר מקיף כאוכב אבו אלהיג'א

בפיקוח משרד החינוך והתרבות
כאוכב 20185 ת.ד. 420
טלפקס: 04-9999508



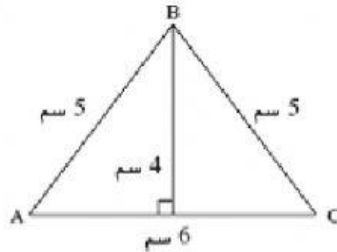
مدرسة كوكب ابو الهيجاء الشاملة

بإشراف وزارة المعارف والثقافة
كوكب 20185 ص.ب. 420
تلفاكس: 04-9999508

mkwkb@mkwkb.tzafonet.org.il

ورقة عمل بالهندسة

المثلث:



معطى المثلث الآتي :

ما هو محيطه؟

الجواب : _____

ما هي مساحته؟

الجواب : _____

المستطيل:

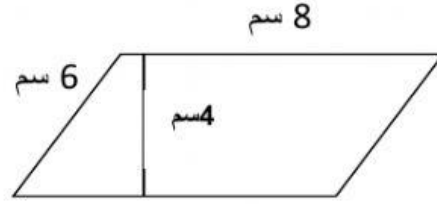
1. محيط مستطيل 40 سم. طول الضلع الأول 12 سم
جد طول الضلع الآخر؟ _____ سم

2. مساحة مستطيل 48 سم². طول احد اضلاعه 12 سم
جد طول ضلعه الآخر؟ _____ سم

متوازي الاضلاع :

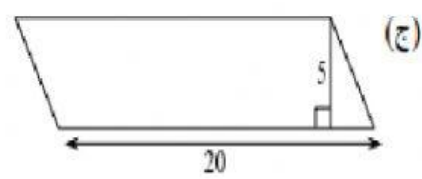
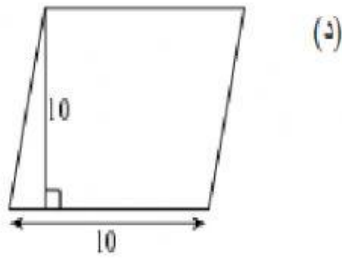

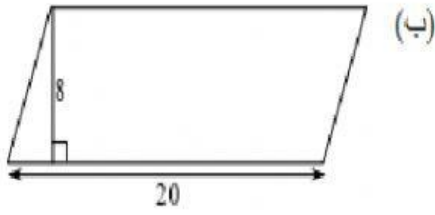
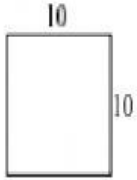
3.

. احسب محيط ومساحة متوازي الاضلاع



أمامكم مربع.

أي متوازيات الأضلاع التالية لها نفس المساحة كمساحة المربع المعطى ؟
القياسات التي في الرسم معطاة بالسـم.



بالنجاح