


عد حبات الزيتون على الغصن وصل بين العدد والكمية:




1

4


3

2

عد حبات الزيتون وجر العدد المناسب :



عد الكمية وجر العدد المناسب :



7	6	5	4
---	---	---	---

اختر الفصل الذي تتضج به ثمار الزيتون :

الفصول الأربعة



الربيع



الشتاء



الخريف



الصيف

قصة انتاج زيت الزيتون - رتبّ الاحداث حسب التسلسل الزمني :



1

2



3

4



صِلْ بَخْطِ بَيْنِ الصُّورَةِ وَالْحَرْفِ الْأَوَّلِ

ز



س



د



ش



صِلْ بَخَطٍ بَيْنَ الصُّورَةِ وَالْحَرْفِ الْأَخِيرِ

ل

أشجار



ث

ليمون



ن

زيت







ر

فلفل



هيا نوصل بين الكلمة والصورة الملائمة
لها ...

زيتون	صابون	ليمون	فلفل
--------------	--------------	--------------	-------------

أختر الحرف الأول حسب الصورة ...



معصرة



مفرش



فلفل



زعتر

