

## Lembar Kerja Jaringan pada Tumbuhan

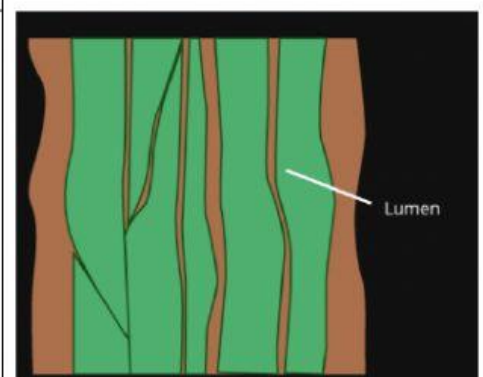
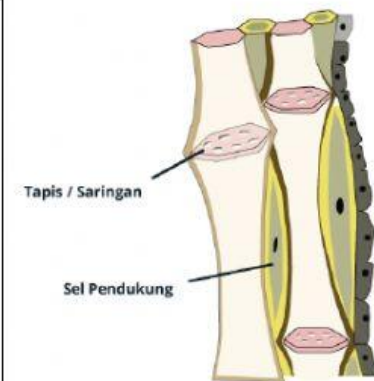
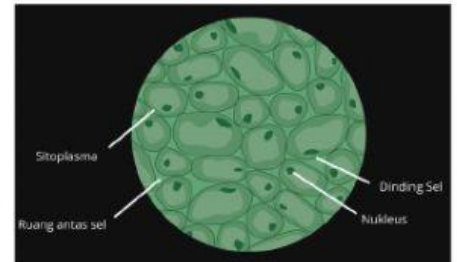
Nama :

Kelas :

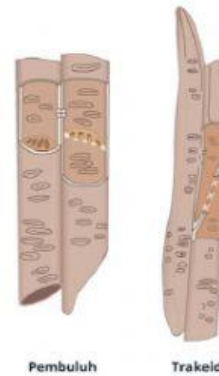
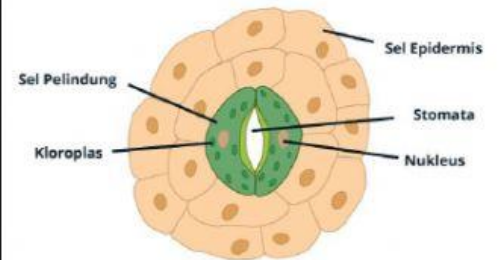
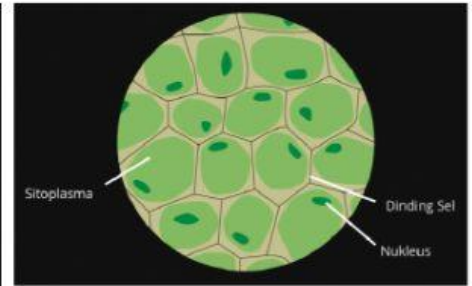
Kerjakan pertanyaan-peranyaan berikut ini!

1. Tarik gambar sesuai dengan nama jaringan

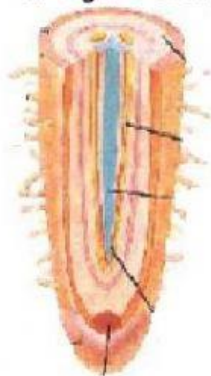
No.	Nama Jaringan	Gambar jaringan
1	Parenkim	
2	Kolenkim	
3	Sklerenkim	



4	Xylem	
5	floem	



2. Tarik garis sesuai dengan nama jaringan pada akar



epidermis

korteks

Rambut akar

Tudung akar

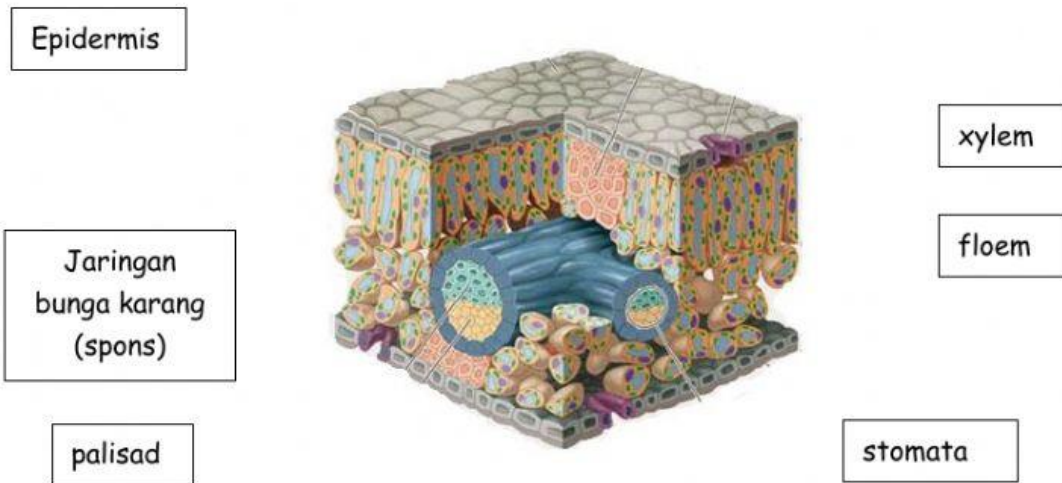
floem

xylem

3. Tarik garis sesuai dengan nama jaringan pada batang



4. Tarik garis sesuai dengan nama jaringan pada daun



5. Fungsi dari ----- untuk mengangkut ----- dari ----- ke -----  
--
6. Fungsi dari ----- untuk mengangkut ----- dari ----- ke -----  
--