



Ficha interactiva:

Representación de fracciones

GRADO: 1er grado de primaria

ÁREA: Matemática

➤ Observa y marca la fracción que representa cada gráfico.

A.



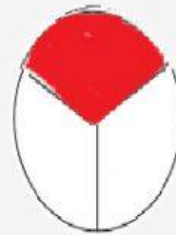
a. $\frac{2}{2}$

c. $\frac{4}{4}$

b. $\frac{4}{2}$

d. $\frac{2}{4}$

B.




a. $\frac{3}{1}$

c. $\frac{2}{3}$

b. $\frac{1}{3}$

d. $\frac{1}{2}$

➤ Observa y relaciona la fracción con su gráfico.



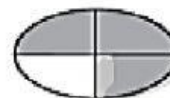
$\frac{3}{4}$



$\frac{2}{3}$



$\frac{2}{4}$



$\frac{3}{6}$



$\frac{1}{2}$