



CURSO: ARITMÉTICA

FECHA: LUNES 26 DE OCTUBRE DEL 2020


TEMA: ADICIÓN Y SUSTRACCIÓN DE NÚMEROS DECIMALES

PRACTICA

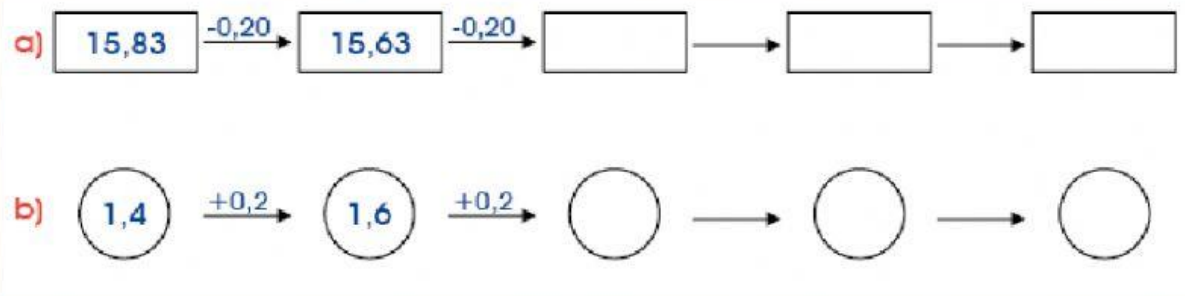
1. Realiza las siguientes sumas: horizontal y vertical.

10,96	7,05	17,51
9,27	3,18	

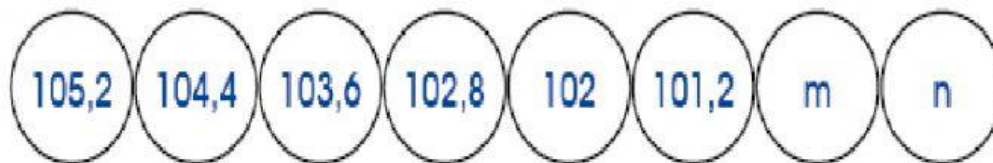
2. Realiza las siguientes restas:

	1,50	1,03
5,9		
2,87		
7,88		
5,04		

3. Continúa la serie:



4. En la siguiente sucesión, ¿cuál es el valor de “m+n”?



a) 200

b) 150

c) 180

d) 210