


UME MÁRIO DE A. ALCÂNTARA.

SANTOS, 4 DE NOVEMBRO DE 2020.

NOME: _____



Compare e responda:




Fotos: Rubens Chaves



Há mais bolas ou petecas? _____

Quantas a mais? _____




PhotoDisc




Dynamic Graphics

Há mais bananas ou maçãs? _____

Quantas a mais? _____



Edu



Fotos: Rubens Chaves

Fábio

Quem fez mais pontos: Edu ou Fábio? _____

Quantos pontos a mais? _____

Subtraia unidade de unidade e dezena de dezena. Depois, escreva quantas dezenas e quantas unidades restaram:

ESTA EU JÁ FIZ!



D	U
2	8
1	3
1	5

1 dezena e 5 unidades

D	U
7	4
2	2

_____ dezenas e _____ unidades