




اشترت عليا نظارتان شمسيتان، ودمية و 3 قمصان فكم  
فكم سعر كل منهم على حدة **تقريبا** ، صل فيما يلي \_ ؟

تقدير ناتج ضرب الاعداد الكلية  
والاعداد العشرية: فاتورة

السعر تقريبا	بيان	م
30 AED	$52.1 \times 2 =$ 	
120 AED	 $30.2 \times 1 =$	
100 AED	 $40.3 \times 3 =$	
		الإجمالي فقط