







# ATIVIDADE ONLINE


30/10/2020

## ATIVIDADE DE MATEMÁTICA

Complete os quadros:

Tinha	Dei	Fiquei com
9 	5 	
12 	10 	
6 	5 	

Rita está pulando amarelinha.



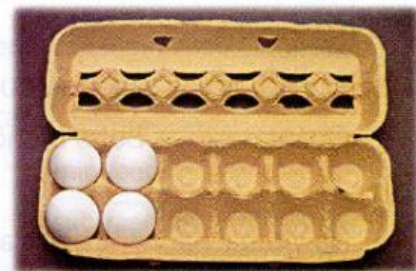
- Quantos pulos faltam para chegar ao 8? \_\_\_\_\_

Observe a caixa de ovos e responda:

- Quantos ovos cabem na caixa? \_\_\_\_\_
- Quantos ovos há na caixa? \_\_\_\_\_
- Quantos ovos faltam para completar a caixa? \_\_\_\_\_

Mostre a subtração correspondente.

\_\_\_\_\_



Monica Vendramini